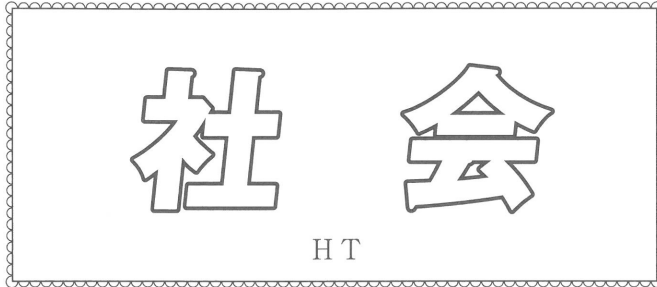


# 2025年度 入学試験問題



(50 分)

[ 注意 ]

- (1) 問題は①～⑥まであります。
- (2) 解答は解答用紙の解答欄にマークしてください。例えば ② と表示のある問いに関して ③ と解答する場合は、次の(例)のように解答番号2の解答欄の③にマークします。

(例)

解答 番号	解 答 欄
2	① ② ● ④ ⑤ ⑥ ⑦ ⑧ ⑨ ⑩

- (3) 記述問題の解答は、解答用紙裏面の所定の解答欄に記入してください。
- (4) 記述問題の解答は、特に指定のない限り、教科書・地図帳に漢字で記されているものは、すべて漢字で答えてください。
- (5) 記述問題で国名を解答する場合は、特に指定のない限り、正式国名でなくてもかまいません。
- (6) 解答用紙には受験番号、氏名を必ず記入してください。また、受験番号はマークもしてください。
- (7) 試験開始の合図があったら、全てのページが揃っているかを確認してください。

1 次の会話を読み、あとの問いに答えなさい。(解答番号 1 ~ 5)

富江：2023年～2024年の日本も、いろんな出来事がありましたね。

先生：そうだね。やはり一番衝撃だったのは、2024年の元旦に起こった能登半島地震だろうね。最大震度7の揺れは、300人近い犠牲者を出したからね。富江さんは、その時は何をしていた？

富江：私は、自宅でサッカーの日本代表戦を観戦していました。試合を見終わった直後に地震が起こったので、本当にびっくりしました。大阪でも揺れましたからね。

先生：そうだったんだね。石川県は、一昨年Bの5月にも地震の被害にあっているから、本当につらかったね。同じく地震では、昨年Aの8月に起こった宮崎県の地震も忘れられないね。初めて『南海トラフ地震臨時情報（巨大地震注意）』が出たから、お盆の直前だったけど、全国に緊張が走ったからね。

富江：真夏の暑さに苦しんでいるときの地震情報だけに、きつかったですね。あちこちのスーパーで、ペットボトルの水が売り切れていましたよ。

先生：そうだね。さらに地震と言えば、2011年の東日本大震災で壊れた福島県Bの福島第一原発から、放射能汚染水の処理水放出も始まったね。

富江：これは一昨年の8月からでしたね。周辺の国々から反対を受ける中での強行でした。

先生：そうだね。原発自体の処理もなかなか進まない中、苦渋の選択だったんだろうね。

富江：いろんな出来事が夏に起こる気がするけど、昨年Cの7月末には、梅雨前線の影響で山形県や秋田県で大きな水害が起こりましたね。2023年も同時期に、同じような場所で水害が起こっているの、大変だと思いました。

先生：年々、水害の被害が大きくなってきているね。やはり地球温暖化の影響もあると考えないかね。7月から8月の猛暑による平均気温は、一昨年を上回ったからね。

富江：温暖化は大きな問題ですが、北海道Dのお米がおいしくなるという効果があったそうですね。昔はあまりおいしくないために、「やっかいどう米」なんて皮肉られたそうですよ。

先生：そうなんだ。それは知らなかったな。

富江：つらい話題も多いですが明るい話題として、昨年Eの7月には新紙幣が発行されましたね。

先生：そうだったね。一万円札の肖像に使われた人物は、埼玉県Fの深谷市Fの出身だから、埼玉は盛り上がっただろうね。

富江：また新型コロナも一段落してきて、外国人旅行者Iの数も一気に増えましたね。

先生：これは何よりだったね。ホテルなど、コロナで打撃を受けた観光業は復活したからね。

富江：外国人観光客が増えたのは、円安の影響もあるんですね。

先生：そうだよ。円安は、観光でのインバウンド効果や輸出には良い影響を与えるけど、輸入や日本人の海外旅行には厳しくなる。貿易Uも観光も、表裏の関係なのができるね。

富江：でも、これから日本の人口が減少Uしていくことを考えると、外国人観光客によるインバウンド効果は大切ですよ。

問1 文中の下線部A～Eに関連する，図1中の地名をそれぞれ，解答用紙裏面の解答欄に記入しなさい。

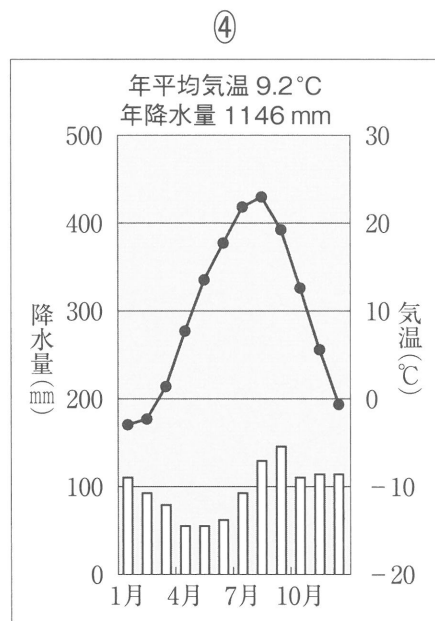
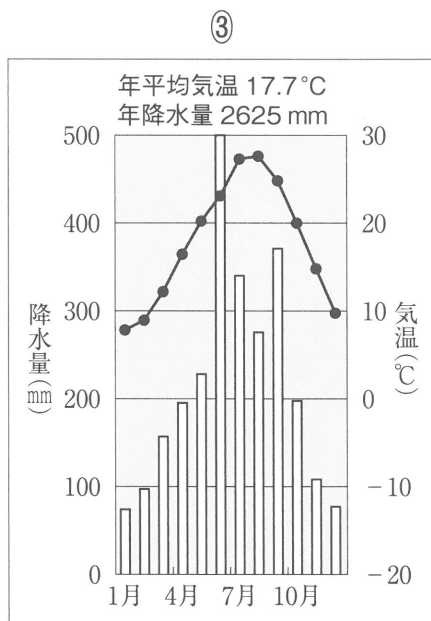
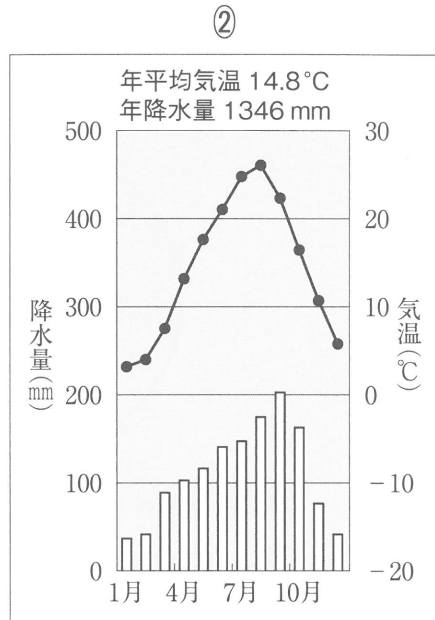
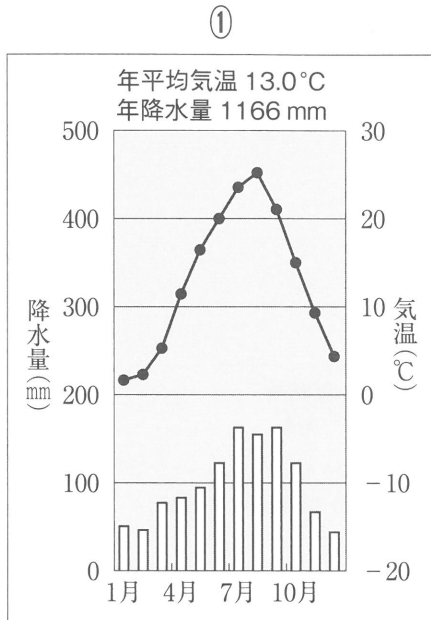
日本全図

図1



問2 次の4つの雨温図は、文中の下線部A・B・D・Eの道県庁所在地の雨温図です。このうち、宮崎市にあたるものを、次の①～④のうちから一つ選び、記号で答えなさい。

1




〈①②の統計は1981～2010年までの、③④の統計は1991～2020年までの平均、気象庁ホームページおよび日本国勢図会 2024/25 より作成〉

問3 文中の下線部A，宮崎県から鹿児島県にかけて広がる，火山噴出物によってできた台地を何というか，解答用紙裏面の解答欄に記入しなさい。

問4 文中の下線部アに関して，次のグラフは深谷市をはじめ埼玉県での生産量が多い，ある農産物の生産量グラフです。これは何か，下の①～④のうちから一つ選び，記号で答えなさい。

2



〈2022年 全国計 442,500 トン 日本国勢図会 2024/25 より作成〉

- ① ジャガイモ    ② キャベツ    ③ ピーマン    ④ ねぎ

問5 文中の下線部イに関して、次の表は訪日外国人客数の2019年1月～6月期と、2024年1月～6月期の比較データです。表中のA～Cの三カ国は、アメリカ、中国、韓国のいずれかを示しています。その組み合わせとして正しいものを、下の①～⑥のうちから一つ選び、記号で答えなさい。

3

2024年6月 訪日外客数(JNTO推計値)(対2019年比)

国・地域	総数 Total		
	2019年 1月～6月	2024年 1月～6月	伸率(%)
総数	16,633,614	17,777,200	6.9
A	3,862,658	4,442,100	15.0
B	4,532,465	3,068,000	-32.3
台湾	2,480,849	2,979,200	20.1
香港	1,097,889	1,276,100	16.2
タイ	683,595	618,300	-9.6
シンガポール	214,083	300,000	40.1
マレーシア	237,929	241,800	1.6
インドネシア	215,873	263,800	22.2
フィリピン	295,120	401,700	36.1
ベトナム	253,247	331,900	31.1
インド	92,940	121,900	31.2
豪州	326,906	462,000	41.3
C	875,124	1,342,900	53.5
カナダ	183,769	272,300	48.2
メキシコ	31,624	64,000	102.4
英国	185,698	218,400	17.6
フランス	160,310	184,300	15.0
ドイツ	118,479	157,600	33.0
イタリア	74,768	96,100	28.5
スペイン	51,422	65,900	28.2
ロシア	55,940	41,100	-26.5
北欧地域	72,345	73,700	1.9
中東地域	46,070	75,200	63.2
その他	484,511	678,900	40.1

◆注1：出典名「日本政府観光局(JNTO)」。

◆注2：上記の2019年の数値は確定値、2024年の数値は推計値である。

◆注3：訪日外客数とは、法務省集計による出入国管理統計に基づき、算出したものである。訪日外客は、外国人正規入国者から、日本を主たる居住国とする永住者等の外国人を除き、これに外国人一時上陸客等を加えた入国外国人旅行者のことである。駐在員やその家族、留学生等の入国者・再入国者は訪日外客に含まれる。

なお、上記の訪日外客には、乗員は含まれない。

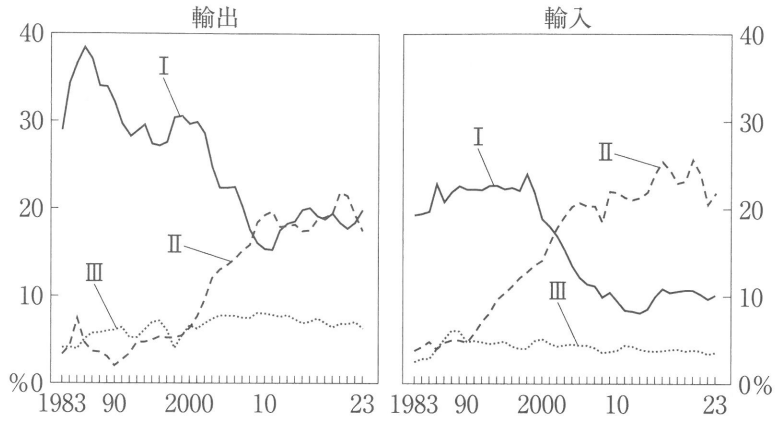
◆注4：北欧地域はスウェーデン、デンマーク、ノルウェー、フィンランドを指す。

◆注5：中東地域はイスラエル、トルコ、GCC6か国(サウジアラビア、アラブ首長国連邦(UAE)、バーレーン、オマーン、カタール、クウェート)を指す。

- ① A アメリカ B 中国 C 韓国  
 ② A アメリカ B 韓国 C 中国  
 ③ A 中国 B アメリカ C 韓国  
 ④ A 中国 B 韓国 C アメリカ  
 ⑤ A 韓国 B 中国 C アメリカ  
 ⑥ A 韓国 B アメリカ C 中国

問6 文中の下線部ウに関して、次の図は日本とアメリカ、中国、韓国との貿易割合を示すグラフです。グラフ中のⅠ～Ⅲの国の組み合わせとして正しいものを、下の①～⑥のうちから一つ選び、記号で答えなさい。

4



〈財務省「貿易統計」より作成 日本国勢図会 2024/25 より作成〉


- |   |   |      |    |      |     |      |
|---|---|------|----|------|-----|------|
| ① | I | アメリカ | II | 中国   | III | 韓国   |
| ② | I | アメリカ | II | 韓国   | III | 中国   |
| ③ | I | 中国   | II | アメリカ | III | 韓国   |
| ④ | I | 中国   | II | 韓国   | III | アメリカ |
| ⑤ | I | 韓国   | II | 中国   | III | アメリカ |
| ⑥ | I | 韓国   | II | アメリカ | III | 中国   |

問7 文中の下線部エに関して、次のグラフは各国人口の年齢構成における国際比較です。

グラフⅠ～Ⅲの各国の名称と、出生率に関するその国の説明との組み合わせとして正しいものを、下の①～⑥のうちから一つ選び、記号で答えなさい。

5

年齢構成の国際比較（2021年）（推計値）



総務省「人口推計」（2021年）および国連“World Population Prospects 2022”より作成。  
日本は10月1日時点、その他の国は7月1日時点の推計値。

- a この国の出生率は1.99(2023年)で、人口は多いが減少期に入った可能性はある。
- b この国の出生率は1.84(2023年)だが、毎年100万人程度の移民を受け入れている。
- c この国の出生率は1.20(2023年)で、人口減少と高齢化が大きな課題となっている。

- ① I 日本 - a                      II アメリカ - b                      III インドネシア - c
- ② I 日本 - a                      II インドネシア - b                      III アメリカ - c
- ③ I アメリカ - b                      II 日本 - c                      III インドネシア - a
- ④ I アメリカ - b                      II インドネシア - c                      III 日本 - a
- ⑤ I インドネシア - c                      II 日本 - b                      III アメリカ - a
- ⑥ I インドネシア - c                      II アメリカ - b                      III 日本 - a

2 次の会話を読み、あとの問いに答えなさい。(解答番号 6 ～ 12)

富雄：2024年は、オリンピックイヤーでしたね。

先生：そうだったね。コロナ禍で、前回の東京オリンピックが2021年開催になったから、3年後の<sup>A</sup>パリオリンピックは早く感じたね。

富雄：日本選手の活躍もめざましかったですね。レスリングや体操だけでなく、スケートボードやブレイキンなど、新種目での金メダルが取れたことがすごかったですね。

先生：そうだね。ちなみにメダルに一步届かなかったけど、選手団の旗手をつとめたブレイキンの「シゲキックス」こと、半井重幸さんは富田林の隣の大阪狭山市出身なんだよ。

富雄：そうなんですか。身近にすごいアスリートがいるものですね。他のいろんな競技でも、日本の活躍が目立ちましたね。男子サッカーも予選リーグでは、パラグアイ、イスラエル、マリーに3連勝で勝ち上がりました。特に初戦のパラグアイは、南米予選で<sup>B</sup>ブラジルを破り、<sup>A</sup>アルゼンチンに引き分けて出てきた強豪だけに、5対0の勝利はすごかったですね。惜しくも準々決勝では、優勝した<sup>B</sup>スペインに敗れました。

先生：そうだったね。女子サッカーも、やはり準々決勝で、優勝したアメリカに0対1で敗れたね。惜しかったけれど、バスケットボールやバレーボールなど、観戦していてワクワクする競技が多かったね。

富雄：珍しい競技では、馬術の団体で銅メダルが取れたことも話題になっていましたね。1932年の<sup>C</sup>ロサンゼルスオリンピックで、西竹一という選手が金メダルを取って以来だそうですね。

先生：バロン西、とよばれた人だね。この人は当時の軍人で、後に太平洋戦争の硫黄島の戦いで戦死しているんだよ。オリンピックやパラリンピックは平和の祭典だけど、昔も今も戦争が影を落とすことが多いね。

富雄：ウクライナ戦争は終わらず、ロシアは今回も正式に選手団を送られなかったですね。

先生：サッカー予選で日本が戦った<sup>D</sup>イスラエルも、テロへの報復としてガザ地区への侵攻を続けているしね。

富雄：戦争は難民をたくさん生み出すことも知っています。でも今回のオリンピックでは、難民選手団の中から、<sup>E</sup>カメルーン出身の女子選手がボクシングで銅メダルを取ったことも話題になっていましたね。

先生：そうだったね。戦争や迫害から逃れるために難民になった人たちから、希望の光が見えたことが、今回のオリンピックで最もすばらしかったことかもしれないね。

富雄：世界中の注目が集まるオリンピックという国際大会ならではのことですね。国際といえば、初富の修学旅行も国際化したんですね。

先生：そうだよ。去年から、国内の北海道・青森に加えて、イタリアと<sup>D</sup>モンゴル、エクアドルのガラパゴス諸島、そして<sup>E</sup>フィリピンのセブ島への語学研修からも選べるようになったんだ。

富雄：いいですね。オックスフォードへの語学研修も魅力的ですが、それに加えて修学旅行先を諸外国から選べるのは、素敵ですね。

先生：特にモンゴルは、個人で行くことが少ないと思うから、行ってみたらいいんじゃないかな。国を挙げて、修学旅行生を歓迎してくれたそうだからね。

富雄：そうなんです。私も行ってみたいな。

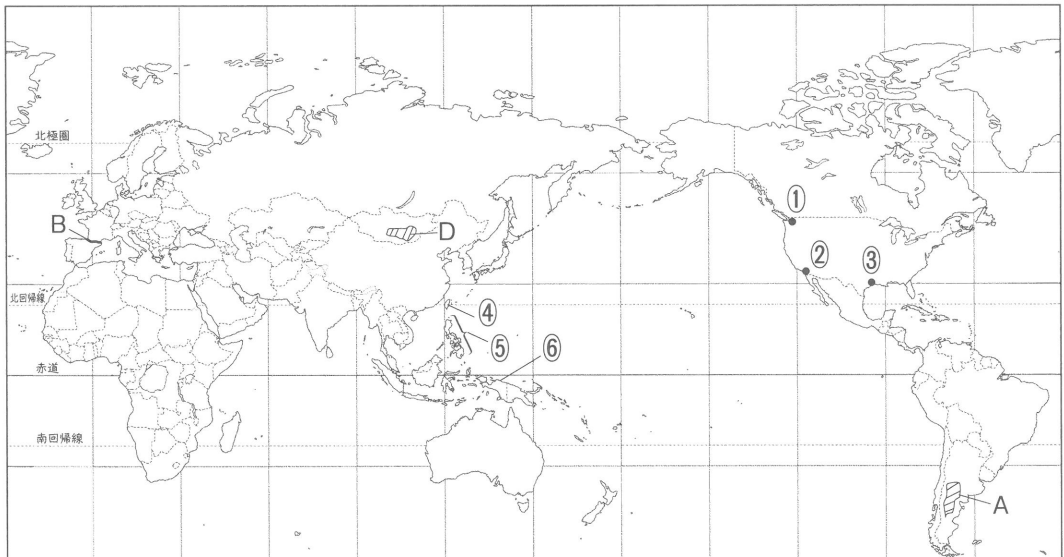
問1 文中の下線部A～Eに関して、次の問いに答えなさい。

(1) 下線部A・B・Dに関して、次の地図1中のA・B・Dの地名をそれぞれ、解答用紙裏面の解答欄に記入しなさい。ただし、Aはここに広がる草原の名称です。

(2) 下線部C・Eの場所はそれぞれどこか、Cは地図1中の①～③から、Eは地図1中の④～⑥からそれぞれ選び、記号で答えなさい。

6	7
---	---

地図1



問2 文中の下線部アに関して，次の地図2を見て，東京から見たパリの方角を，下の①～④のうちから一つ選び，記号で答えなさい。

8

地図2

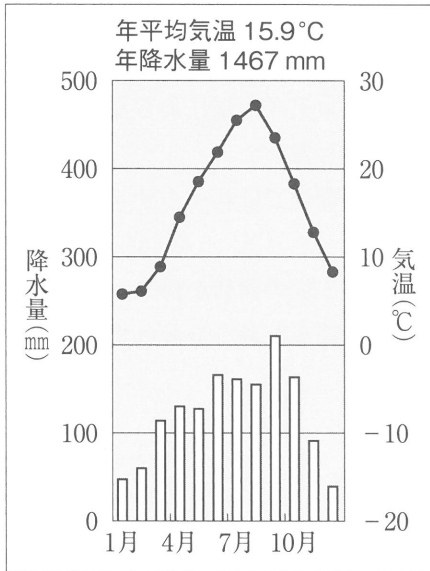


- ① 北北東    ② 北北西    ③ 東北東    ④ 西北西

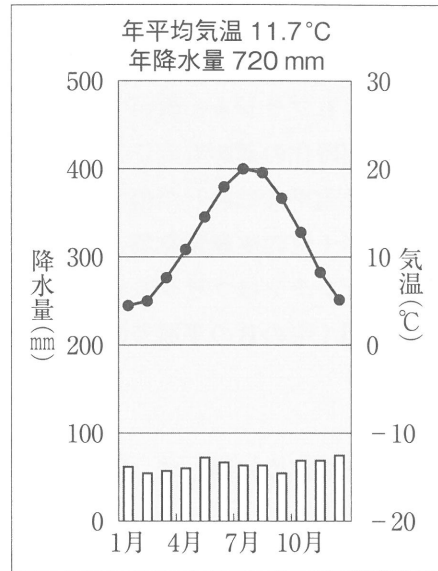
問3 文中の下線部Cに関して、次のオリンピック開催地でもあるロサンゼルス、ロサンゼルス、ロサンゼルスの雨温図を、次の①～④のうちから一つ選び、記号で答えなさい。

9

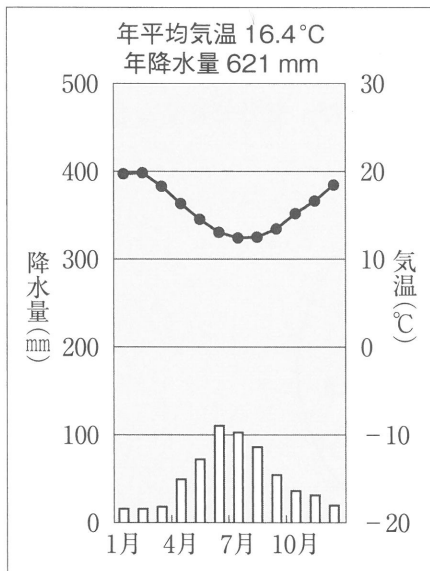
①



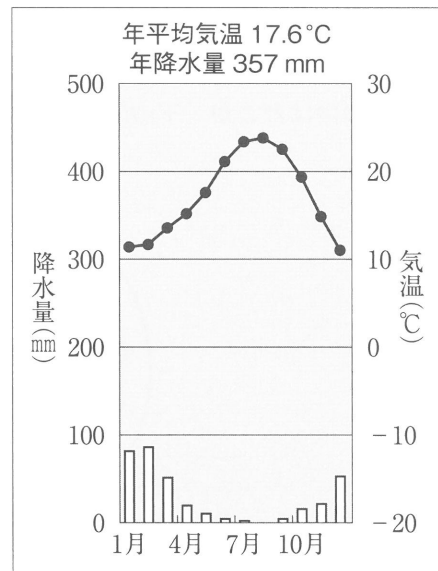
②



③



④



〈統計は1991～2021年までの平均，Climate Data ホームページより作成〉

問4 文中の下線部イに関して、ブラジルをはじめ、南アメリカの国々は日本との関係が強い国も多いです。次の①～④の各国の説明のうち、誤っているものを一つ選び、記号で答えなさい。

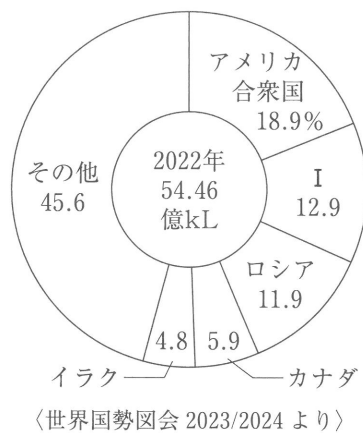
10

- ① ブラジルは日系人が最も多く暮らしている。国土の北部にアマゾン川が流れ、コーヒー豆や大豆の生産量が多く、鉄鉱石の産出量も近年は世界第2位である。
- ② ペルーもブラジルに次いで日系人の数が多い。アンデス山脈におもな都市があり、インカ帝国時代の遺跡もそこにあり、観光で訪れる人も多い。
- ③ チリは太平洋に面した南北に長い国である。鉱物資源ではボーキサイトが長年にわたって世界1位の生産量を誇っている。
- ④ アルゼンチンはブラジルに次いで、南アメリカ第2位の面積を持つ。農牧業がさかんで、地図1中のBの平原では、小麦の生産や肉牛の牧畜がおこなわれている。

問5 文中の下線部ウに関して、次の各問いに答えなさい。

- (1) イスラエルが軍事侵攻している背景には、ガザ地区で暮らす人々との宗教の違いがあります。イスラエルの人々が信仰している主な宗教を、解答用紙裏面の解答欄に記入しなさい。
- (2) イスラエル周辺の西アジア諸国には、石油生産量が多い国が見られます。次のグラフ中のIの国はどこか、下の①～④のうちから一つ選び、記号で答えなさい。

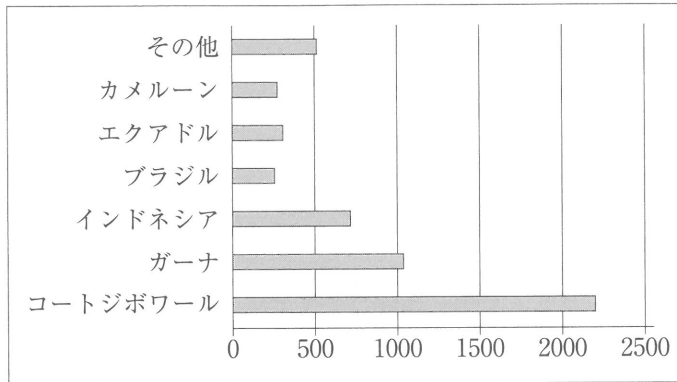
11



- ① イラン
- ② クウェート
- ③ サウジアラビア
- ④ シリア

問6 文中の下線部Eに関して、次のグラフはカメルーンをはじめ、アフリカ諸国が生産の上位を占める農産物です。これは何か、下の①～④のうちから一つ選び、記号で答えなさい。

12



(単位千トン、2020年 世界国勢図会 2023/2024より作成)

- ① 茶    ② トウモロコシ    ③ カカオ豆    ④ オリーブ

問7 2032年のオリンピック開催地は、オーストラリアのブリスベンに決まっています。オーストラリアはイギリスからの移民が中心となって国を作ったため、長期間にわたってアジアからの移民を制限してきました。現在は行われていませんが、この政策を解答用紙裏面の解答欄に記入しなさい。

3 富太郎さんのクラスでは、グループで歴史新聞をつくることになりました。富太郎さんのグループは、歴史上で活躍した女性を特集することにしました。次の文を読み、あとの問いに答えなさい。(解答番号 13 ～ 25)

A 富太郎さんは、まず記事に書きたい人物のことを調べて、取材メモをつくりました。メモの内容は次のア～エです。

ア 堺の和菓子屋の家に生まれた。

イ 1904年に日本が<sup>a</sup>ロシアと戦争を始め、弟が従軍すると、「君死にたまふことなかれ」という詩を発表した。

ウ 1911年に ( b ) らが「青鞥」を創刊すると、それに共鳴して作品を寄せた。

エ 独学で日本の古典を学び、( c ) の『源氏物語』の現代語訳など<sup>d</sup>古典文学に関する作品も多く残している。

問1 富太郎さんが記事に書きたいと思っている人物はだれか、解答用紙裏面の解答欄に記入しなさい。

問2 下線部 a の戦争の講和条約として正しいものを、次の①～④のうちから一つ選び、記号で答えなさい。

13

① ベルサイユ条約 ② ワシントン条約 ③ 下関条約 ④ ポーツマス条約

問3 富太郎さんのメモ中の空欄 ( b ) ( c ) に適する人物の組合せとして正しいものを、次の①～④のうちから一つ選び、記号で答えなさい。

14

① b - 平塚らいてう c - 清少納言 ② b - 平塚らいてう c - 紫式部

③ b - 津田梅子 c - 清少納言 ④ b - 津田梅子 c - 紫式部

問4 下線部 d に関して、鎌倉時代には時代の変化を見つめて、人生のはかなさを記した随筆『方丈記』が書かれました。『方丈記』を著した人物を、次の①～④のうちから一つ選び、記号で答えなさい。

15

① 兼好法師 ② 紀貫之 ③ 琵琶法師 ④ 鴨長明

B 芝実さんは、ある女性の演説を記事にしようとしています。

「みな心を一つにして聞きなさい。これが最後の言葉です。頼朝公が朝廷の敵をたおし、幕府を開いてこのかた、官職といい、土地といい、その恩は山より高く、海より深いものでした。みながそれに報いたいという志はきっと浅くはないはずです。ところが今、( f ) 北条義時を討てという命令が、朝廷から出されました。名誉を大事にする者は、源氏三代の将軍が築き上げたものを守りなさい。上皇方につきたいと思う者は、今すぐ申し出なさい。」

問5 この記事の「見出し」としてふさわしいものを、次の①～④のうちから一つ選び、記号で答えなさい。 16

- ① 後白河上皇の挙兵に対し、頼朝の妻政子の演説で御家人が団結
- ② 後白河上皇の挙兵に対し、頼朝の母政子の演説で御家人が団結
- ③ 後鳥羽上皇の挙兵に対し、頼朝の妻政子の演説で御家人が団結
- ④ 後鳥羽上皇の挙兵に対し、頼朝の母政子の演説で御家人が団結

問6 下線部 e の幕府のときに起きたことがらとして正しいものを、次の①～④のうちから一つ選び、記号で答えなさい。 17

- ① 二度にわたる元軍の襲来をうけた。
- ② 明に朝貢する形をとって貿易を始めた。
- ③ 勢力がおとろえていた南朝を、北朝と合一させた。
- ④ 将軍のあとつぎ問題をめぐって有力な守護大名の対立が深まり、応仁の乱が起こった。

問7 文中の空欄 ( f ) には、北条氏が幕府の実権をにぎるにあたり、ついた地位が入ります。正しいものを、次の①～④のうちから一つ選び、記号で答えなさい。 18

- ① 執権      ② 大老      ③ 管領      ④ 守護

C 富美子さんは、女性天皇の特集を記事にしようと次の表を作成しました。

天皇	できごと
推古	( g )
皇極	645年 中大兄皇子と中臣鎌足が蘇我氏をたおして政権をにぎる
斉明	663年 百済の復興を助けようと大軍を送ったが、唐と新羅の連合軍に大敗する ..... h
持統	694年 日本で最初の本格的な都である ( i ) が完成する
元明	710年 <u>律令</u> 国家の新しい都として ( k ) が完成し、( i ) から移される j
元正	720年 『日本書紀』が完成する
孝謙	752年 東大寺の大仏が完成する ..... l
称徳	765年 称徳天皇により西大寺が創建される ..... m
明正	1635年 参勤交代が制度化される ..... n
後桜町	( o )

問8 日本最初の女性天皇である推古天皇が誕生する前の出来事について説明した次のⅠ～Ⅲの文を、年代の古い順に並べたものとして正しいものを、下の①～⑥のうちから一つ選び、記号で答えなさい。

19

- Ⅰ 倭王が5代にわたり、中国の南朝に使いを送り、政治的な力を認められた。
- Ⅱ 奴の国王が中国に使いを送り、皇帝から金印をもらった。
- Ⅲ 卑弥呼が魏の皇帝に使いを送り、金印や銅鏡などをもらった。

- ① Ⅰ－Ⅱ－Ⅲ      ② Ⅰ－Ⅲ－Ⅱ      ③ Ⅱ－Ⅰ－Ⅲ
- ④ Ⅱ－Ⅲ－Ⅰ      ⑤ Ⅲ－Ⅰ－Ⅱ      ⑥ Ⅲ－Ⅱ－Ⅰ

問9 表中の空欄 ( g ) にあてはまる推古天皇が位についていた時代のできごととして正しいものを、次の①～④のうちから一つ選び、記号で答えなさい。

20

- ① 中国を統一した唐に遣唐使を派遣して国交を結ぼうとした。
- ② 百済から日本の天皇に仏教が伝えられた。
- ③ 十七条の憲法を定めて、役人として天皇につかえる心がまえを示した。
- ④ 墾田永年私財法を出し、新しく開墾した土地は私有地として認めた。

問10 表中のhの戦いを何というか、解答用紙裏面の解答欄に記入しなさい。

問11 表中の空欄 ( i ) ( k ) に適する都の組合せとして正しいものを、次の①～④のうちから一つ選び、記号で答えなさい。

21

- ① i - 長岡京      k - 平安京      ② i - 長岡京      k - 平城京  
③ i - 藤原京      k - 平安京      ④ i - 藤原京      k - 平城京

問12 下線部jに関して、大宝律令が定められ、班田収授が行われるようになりました。次の表で口分田を割り当てられている人数を、下の①～⑥のうちから一つ選び、記号で答えなさい。

22

表

性別 (年齢)	男 (46歳)	女 (39歳)	男 (27歳)	男 (19歳)	女 (13歳)	女 (9歳)	男 (6歳)	女 (5歳)	男 (3歳)
------------	------------	------------	------------	------------	------------	-----------	-----------	-----------	-----------

- ① 9人      ② 8人      ③ 7人      ④ 6人      ⑤ 5人      ⑥ 4人

問13 表中のIに関して、東大寺には西アジアやインドから唐にもたらされ、遣唐使が持ち帰ったとされる品で、聖武天皇が愛用していた品々が保管されました。保管されていた建造物を解答用紙裏面の解答欄に記入しなさい。

問14 表中のmに関して、仏教について説明した次のI～IIIの文を年代の古い順に並べたものとして正しいものを、下の①～⑥のうちから一つ選び、記号で答えなさい。

23

- I 念仏を唱えて阿弥陀仏にすがり、死後に極楽浄土へ生まれ変わることを願う浄土信仰が盛んになった。  
II 栄西や道元は、座禅によって自分の力でさとりを開こうとする禅宗を中国から伝えた。  
III 最澄や空海が始めた新しい仏教は、山奥の寺で厳しい修行や学問を行うことを重んじ、貴族の間で広く信仰されるようになった。

- ① I - II - III      ② I - III - II      ③ II - I - III  
④ II - III - I      ⑤ III - I - II      ⑥ III - II - I

問15 表中のnの参勤交代を制度化した将軍を、次の①～④のうちから一つ選び、記号で答えなさい。

24

- ① 徳川家康    ② 徳川綱吉    ③ 徳川家光    ④ 徳川光圀

問16 現在のところ、最後の女性天皇となるのは江戸時代の後桜町天皇（在位1762年～70年）で、田沼意次が実権を握っていた時代と重なります。次の①～④の文のうち、表中の空欄（ o ）にあてはまる、田沼意次が行ったこととして正しいものを一つ選び、記号で答えなさい。

25

- ① 金貨の質を落として、その数量を増やし、財政難を切り抜けようとした。  
② 商工業者の同業者の組合である株仲間を認めるかわりに、営業税を納めさせた。  
③ 旗本や御家人の生活難を救うため、借金を帳消しにした。  
④ 公事方御定書という法令集をつくって、裁判の基準とした。

- 4 初子さんのクラスでは、今年開催される大阪・関西万博にちなんで、万博の歴史についてレポートを書くことになりました。次のA～Cのレポートを読み、あとの問いに答えなさい。(解答番号 26 ～ 31)

A 初子さんのグループは世界初の万博についてレポートしました。

世界初の万博は、1851年ロンドンで開催された博覧会であるといわれています。全面ガラス張りの「クリスタルパレス」が建てられ、この建物自体が最大の目玉展示物になったそうです。イギリスは18世紀後半から始まった産業革命による繁栄ぶりは明らかで、その圧倒的な工業力を世界に知らしめる絶好の機会となりました。参加国は34カ国で、5カ月の開催で600万人以上が訪れるという大盛況であったため、イギリス政府は10年後にも博覧会を予定しました。そして開催された1862年の第2回ロンドン万博は、日本人と万博が関わる最初の万博となります。

1853年にペリーが来航して開国をしてから1862年までの10年間に、幕府は日米修好通商条約をはじめにヨーロッパの各国ともほぼ同じ内容の条約を結び、貿易を行うことになりました。しかし、この条約は朝廷の許可を得ないまま結ばれたため、日本国内では幕府の政策を批判する尊王攘夷運動が起きました。幕府は反対派の不満をやわらげるためにヨーロッパ各国と交渉しようと、1861年に使節団を派遣しました。この使節団の人々は、イギリスでの交渉の最中、ロンドン万博を視察しました。通訳として使節団に加わっていた福沢諭吉は、その盛況ぶりについて、「1862年ロンドンに博覧場を設け、毎日場に入るもの4、5万に下らず」と書き残しています。

問1 下線部 a の年にアヘン戦争の賠償金の支払いのために、清が重税を課したため満州族の清をたおして漢民族の国をつくろうと訴えて、反乱が起きました。この反乱を何というか、解答用紙裏面の解答欄に記入しなさい。

問2 下線部 b に関して、産業革命が欧米諸国に与えた影響について述べた文として誤っているものを、次の①～④のうちから一つ選び、記号で答えなさい。

26

- ① 工業のさかんな都市では、機械化が進んだため、人口が減少した。
- ② 労働者は雇用と生活を守るために団結して労働組合を作った。
- ③ 資本家と労働者との間の貧富の差を解決しようとして社会主義の考えが生まれ、マルクスらの著作が影響を与えた。
- ④ 資本家が労働者を雇って、利益の拡大を目的に生産を行う資本主義が広がった。

問3 下線部 c の条約により、5 港を開港して貿易が始められることになりました。この条約で開港されることになった5 港として誤っているものを、次の①～⑤のうちから一つ選び、記号で答えなさい。

27

- ① 神奈川 ② 兵庫 ③ 長崎 ④ 新潟 ⑤ 博多

問4 下線部 d に関して、日本が欧米諸国との貿易を始めたころ、アメリカでは南北戦争が起きました。この戦争では北部も南部も大きな被害を出しながらも、北部が大統領の指導のもとに勝利しました。このときの大統領を解答用紙裏面の解答欄に記入しなさい。

B 富雄さんのグループは、日本が初めて公式出品したパリ万博についてレポートしました。

1867年の第2回パリ万博では、水圧式のエレベーターなどが注目を集めました。入場者数は900万人を超え、1851年の第1回ロンドン万博を大きく上回り、大成功をおさめました。そして、このパリ万博で初めて日本が公式出品しました。

当時の日本は、フランスの駐日公使ロッシュが、幕府を軍事・経済面で支援していました。ロッシュは、長州藩への攻撃失敗などによって幕府の衰退が明らかとなってからも、幕府支持の態度を変えなかったといわれています。パリの万博開催決定をうけたロッシュは、幕府に参加を勧め、出品とともに幕府の代表者の派遣を提案しました。そして、15代将軍徳川慶喜の名代として、弟である徳川昭武が派遣されました。なお、この使節団には ( e ) も同行していました。日本からの出品品は珍しがられ、日本の美術や工芸が、ヨーロッパの芸術家たちに様々な影響を及ぼした、いわゆるジャポニズムのきっかけになったといわれています。しかし、大政奉還によって江戸時代が終わるのは、この直後の1867年10月のことでした。

その後、1878年に第3回パリ万博が開催され、1889年にはフランス革命から100年という節目の年に第4回のパリ万博が開催されました。このときに最大の注目を浴びた建築物がエッフェル塔でした。

問5 空欄 ( e ) に入る人物は、このときにヨーロッパの産業について見聞した経験を活かして富岡製糸場の設立にたずさわり、その後も500以上の企業の設立に関わり、日本の近代産業の育成、発展に努めた人物です。この人物を解答用紙裏面の解答欄に記入しなさい。

問6 下線部 f に関して、「東海道五十三次」などの作品を残した風景画で有名な浮世絵師は、ゴッホに影響を与えたといわれています。この浮世絵師を、次の①～④のうちから一つ選び、記号で答えなさい。

28

- ① 歌川広重 ② 喜多川歌麿 ③ 小林一茶 ④ 菱川師宣

問7 下線部 g に関して、フランス革命の際に自由・平等の権利を認め、国民が政治を行う権限を持つと主張したものが発表されたが、これを何というか、次の①～④のうちから一つ選び、記号で答えなさい。

29

- ① 独立宣言    ② 人権宣言    ③ 権利の章典    ④ 社会契約論

C 富三郎さんのグループは、前回の大阪万博についてレポートしました。

第二次世界大戦終了後、日本は海外で開催された博覧会に積極的に参加しました。1951年にサンフランシスコ平和条約を結び、独立を回復し、1956年には国際連合に加盟して国際社会への復帰が実現しました。この間、年平均で10%程度の成長を続ける高度経済成長もあり、日本での万博開催の条件が整っていきました。さらに、1964年には東京でオリンピックが開催され、万博開催の気運を盛り上げることになりました。

会場については、当初東京や千葉も候補となりましたが、1964年7月に「大阪を中心とする近畿地方」での開催を推進する委員会が発足するなど、近畿地方での誘致に向けた活動が本格化したため、候補地は早々に近畿に絞られました。そして、翌年に大阪の千里丘陵に決定しました。

「人類の進歩と調和」をテーマとする「日本万国博覧会」(大阪万博)は、1970年3月14日から9月13日まで開催されました。入場者総数は6,400万人以上を記録し、この記録は2010年の上海万博で抜かれるまで万博史上最多の入場者数でした。

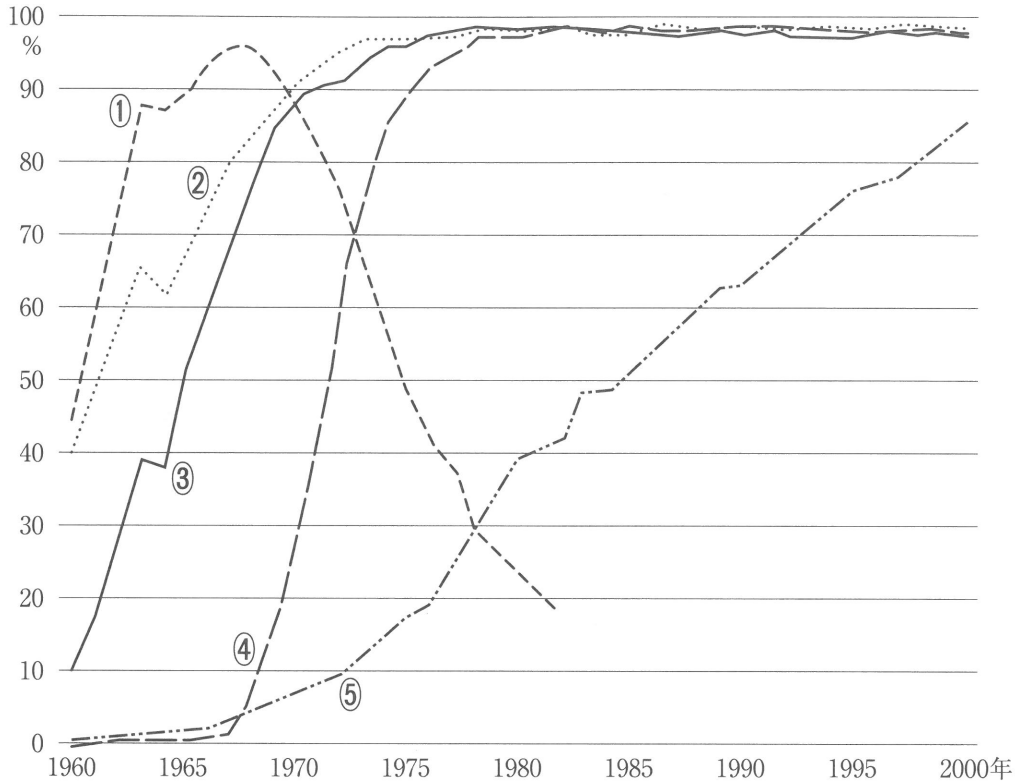
問8 下線部 h の国際連合への日本加盟が実現するきっかけとなった出来事を、次の①～④のうちから一つ選び、記号で答えなさい。

30

- ① 日中共同声明に調印して、中華人民共和国との国交が正常化した。  
② 日韓基本条約を結び、韓国との国交が正常化した。  
③ アメリカと日米安全保障条約を結んだ。  
④ 日ソ共同宣言が調印され、ソ連との国交が回復した。

問9 下線部 i によって、国民の暮らしは快適となり、「三種の神器」とよばれた家庭電化製品が普及しました。次のグラフは電気冷蔵庫、電気洗濯機、ルームエアコン、白黒テレビ、カラーテレビの普及率を示しています。白黒テレビにあたるものを、グラフ中の①～⑤のうちから一つ選び、記号で答えなさい。

31



(内閣府 [消費動向調査] より作成)

5 次の各問いに答えなさい。(解答番号 32 ～ 38)

問1 次の①～④の条文から、1999年制定の「男女共同参画社会基本法」にあたるものを一つ選び、記号で答えなさい。 32

- ① 「第1条 この法律は、社会の対等な構成員である男女が公選による公職又は内閣総理大臣その他の国務大臣、内閣官房副長官、内閣総理大臣補佐官、副大臣、大臣政務官若しくは大臣補佐官若しくは副知事若しくは副市町村長の職にある者として…」
- ② 「第1条 この法律は、男女の人権が尊重され、かつ、社会経済情勢の変化に対応できる豊かで活力ある社会を実現することの緊要性にかんがみ、男女共同参画社会形成の促進に関する施策の推進を図っていくことが重要である…」
- ③ 「第1条 この法律は、法の下での平等を保障する日本国憲法の理念にのっとり雇用の分野における男女の均等な機会及び待遇の確保を図るとともに…」
- ④ 「第1条 この条約の適用上、「女子に対する差別」とは、性に基づく区別、排除又は制限であって、政治的、経済的、社会的、文化的、市民的その他のいかなる分野においても、女子が男女の平等を基礎として…」

問2 日本国憲法には請求権があります。請求権としてふさわしくないものを、次の①～④のうちから一つ選び、記号で答えなさい。 33

- ① 刑事補償請求権 ② 国家賠償請求権 ③ 裁判を受ける権利 ④ 勤労の権利

問3 地方公共団体間の格差を減らすため、国から依存財源が渡されます。そのうち、使い方が限定されているものを、次の①～④のうちから一つ選び、記号で答えなさい。 34

- ① 地方交付税交付金 ② 国庫支出金 ③ 地方譲与税 ④ 地方債

問4 地方公共団体独自の法である条例の制定・改廃に関して、必要な署名は有権者の何分の1以上ですか、次の①～④のうちから一つ選び、記号で答えなさい。 35

- ① 2分の1以上 ② 3分の1以上 ③ 20分の1以上 ④ 50分の1以上

問5 政治に関する人々の意見を世論というが、その世論において信頼できる情報は何かを冷静に判断する力を何といいますか、次の①～④のうちから一つ選び、記号で答えなさい。

36

- ① メディアリテラシー      ② マニフェスト  
③ ソーシャルメディア      ④ マスメディア

問6 1992年に制定されたPKO協力法にもとづいて、初めて自衛隊が派遣された国を、次の①～④のうちから一つ選び、記号で答えなさい。

37

- ① ベトナム      ② インドネシア      ③ カンボジア      ④ ラオス

問7 憲法が保障する自由権のうち、「精神の自由」にあたらないものを、次の①～④のうちから一つ選び、記号で答えなさい。

38

- ① 信教の自由      ② 居住、移転と職業選択の自由  
③ 学問の自由      ④ 思想・良心の自由

6 次の文章を読んで、あとの問いに答えなさい。(解答番号 39 ~ 47)

日本国憲法は、内閣に行政権を、国会に立法権を、裁判所に司法権をそれぞれ与え、権力の分立を図っている。<sup>A</sup>

憲法では「行政権は、内閣に属する」<sup>B</sup>と規定されている。また「行政権の行使について、国会に対し連帯して責任を負ふ」ともされ、内閣と国会が連帯して責任を負う制度も定めている。このような制度を（ a ）制とよぶ。

国会は「国権の最高機関であって、国の唯一の立法機関」<sup>C</sup>とされる。国会には、憲法改正の発議権<sup>D</sup>や予算の議決権<sup>E</sup>、法律の制定権などさまざまな権能<sup>F</sup>が認められている。

司法権は裁判所が持ち、裁判は原則公開で実施される。裁判には、民事裁判と刑事裁判があり、民事裁判で訴えられた人は（ b ）とよばれる。また、現在全国に五種類の裁判所が設置されている。<sup>G</sup>さまざまな裁判があるが、<sup>H</sup>基本的に国民は、権利が侵されたと考えるときに、裁判を受ける権利が認められている。また、裁判所には法律などが憲法に違反しないかを審査する権限がある。特に最高裁判所は、その最終決定権を持つことから（ c ）とよばれている。

問1 文中の空欄（ a ）・（ b ）に適する語としてその組み合わせが正しいものを、次の①～④のうちから一つ選び、記号で答えなさい。 39

- ① （ a ）：議院内閣 （ b ）：被告
- ② （ a ）：大統領 （ b ）：被告
- ③ （ a ）：大統領 （ b ）：原告
- ④ （ a ）：議院内閣 （ b ）：原告

問2 下線部Aに関して、このような行政・立法・司法の三権分立を説いた人物を、次の①～④のうちから一つ選び、記号で答えなさい。 40

- ① モンテスキュー ② ロック ③ ルソー ④ アダム＝スミス

問3 下線部Bに関して、内閣または内閣総理大臣の職務としてふさわしくないものを、次の①～④のうちから一つ選び、記号で答えなさい。 41

- ① 内閣は、法律案や予算を作成し、国会に提出する。
- ② 天皇の国事行為に対し、助言と承認を行う。
- ③ 内閣総理大臣は國務大臣を任命できるが、辞めさせることはできない。
- ④ 内閣総理大臣は閣議を開き、全会一致で政府の方針を定める。

問4 下線部Cに関して、国権の最高機関である国会・国会議員に関する文としてふさわしくないものを、次の①～④のうちから一つ選び、記号で答えなさい。

42

- ① 国会の各議院は、国政調査権に基づいて、証人から証言を求めることができる。
- ② 国会の各議院は、それぞれ内閣不信任決議を行う権利がある。
- ③ 国会議員は、国会が開かれている間は原則として逮捕されない不逮捕特権を持つ。
- ④ 国会議員の中から内閣総理大臣の指名を行う。

問5 下線部Dに関して、毎年1回、1月に召集される国会を何というか、次の①～④のうちから一つ選び、記号で答えなさい。

43

- ① 臨時国会
- ② 特別国会
- ③ 通常国会
- ④ 緊急国会

問6 下線部Eに関して、次の条文は憲法改正の手続きと公布について定められている第96条です。文中の下線部①～④のうち、誤っているものを一つ選び、記号で答えなさい。

44

第96条

この憲法改正は、各議院の①総議員の②2分の1以上の賛成で、国会が、これを③発議し、国民に提案してその承認を経なければならない。この承認には、特別の国民投票又は国会の定める選挙の際行われる投票において、その④過半数を必要とする。

問7 下線部Fに関して、予算の議決について正しいものを、次の①～④のうちから一つ選び、記号で答えなさい。

45

- ① 予算は、衆議院で可決、参議院で否決した場合、衆議院で出席議員の3分の2以上の多数で再可決すれば、成立する。
- ② 参議院が、衆議院で可決した予算を、60日以内に議決しないときは、衆議院の議決が国会の議決となる。
- ③ 予算は、さきに衆議院に提出しなければならない。
- ④ 参議院が、衆議院で可決した予算を、40日以内に議決しないときは、衆議院の議決が国会の議決となる。

問8 下線部Gに関して、このうち少年事件を扱う裁判所を、次の①～④のうちから一つ選び、記号で答えなさい。

46

- ① 簡易裁判所    ② 高等裁判所    ③ 地方裁判所    ④ 家庭裁判所

問9 下線部Hに関して、刑事・民事を問わず、2006年に国民が法的なトラブルに必要な情報やサービスなどの提供を受けられるシステムが出来上がりました。これを次の①～④のうちから一つ選び、記号で答えなさい。

47

- ① 法科大学院    ② 法テラス    ③ 裁判員制度    ④ 陪審制

問10 文中の空欄（ c ）に適する語を、解答用紙裏面の解答欄に記入しなさい。