

2026年度 入学試験問題

社 会

R J (前期 A)

(40 分)

〔 注 意 〕

- ① 問題は**1**～**3**まであります。
- ② 解答用紙はこの問題用紙の間にはさんであります。
- ③ 解答用紙には受験番号，名前を必ず記入してください。
- ④ 解答はすべて解答用紙の所定のところへ記入してください。
- ⑤ 特に指定のない限り，教科書・地図帳に漢字で記されているものは，すべて漢字で答えてください。
- ⑥ 国名を解答する場合は，特に指定のないかぎり，正式国名でなくてもかまいません。
- ⑦ 試験開始の合図があったら，すべてのページが揃っているかを確認してください。

1 利一さんと晶子さんは、3学期の始業式の日、昨年2025年をふり返って話をしています。二人の会話文を読んで、あとの問いに答えなさい。

利一さん「2025年もいろいろあったね。1月には阪神・淡路大震災^{だいしんさい}から30年ということで、神戸^{ついとう}などで追悼式典がおこなわれたとテレビでやっていたな。」

晶子さん「日本は地震^{じしん}が多いから、私たちが気をつけないといけないわね。」

利一さん「災害^aといえば、去年は日本各地で山火事が発生したのもニュースになったね。とくに岩手県^{おおふなと}の大船渡市では大きな被害が出たみたいだね。」

晶子さん「山火事といえば、アメリカのロサンゼルスでもニュースになっていたけど、日本でも大きな山火事がおこるなんて、これも地球温暖化^{えいきやう}の影響なのかしら。」

利一さん「そうかもしれないね。去年の夏も暑い日が続いて、昼間は外で遊べないことも多かったよ。」

晶子さん「日本の気候^{きこう}は四季があることが特徴^{とくちょう}だというけれど、最近^dは春と秋がなくなってしまったのではないかと思うものね。」

利一さん「4月には大阪・関西万博が開幕したね。」

晶子さん「10月までの開催期間中、多くの人でにぎわっていたわね。私も夏休みに行ったけど、とても混雑して大変だったわ。でも、おもしろいパビリオンがたくさんあって、とても楽しかったわ。」

利一さん「夏前には米^{こめ}の値上がり^{びちくまい}が問題になって、政府が備蓄米を放出したよね。」

晶子さん「そうそう、令和の米騒動^{そうどう}といわれていたわよね。」

利一さん「そして去年は、第二次世界大戦・太平洋戦争が終わってちょうど80年の年でもあったね。テレビでも関連する番組をいろいろやっていたよ。沖縄戦^ぐでは多くの住民が犠牲^{ぎせい}になったことを伝える番組を見たよ。」

晶子さん「私は東京の大空襲^{くうしゆう}のことを紹介した番組を見たわ。でも、東京のほかにも大阪や名古屋でも空襲があったのよね。」

利一さん「東京や大阪などの大都市^hだけではないよ。北海道から九州まで日本各地で空襲があったらしいよ。」

晶子さん「本当に悲しい時代があったのね。そして、忘れてはいけないのが広島ⁱと長崎に落とされた原子爆弾^{ばくだん}よね。」

利一さん「そうだね。一瞬^{いつしゆん}で多くの人の命をうばい、町を破壊したんだ。」

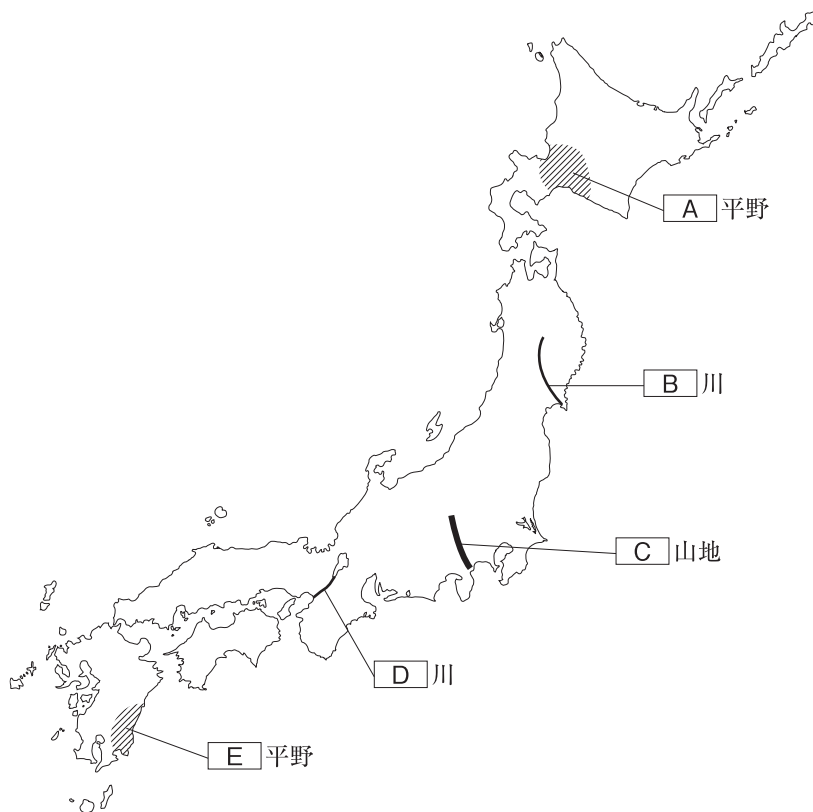
晶子さん「いまも苦しんでいる人がいるって聞いたわ。もう二度とこんな悲劇がおこらないようにしないとけないわね。」

利一さん「本当にそうだね。去年はほかにも総理大臣が代わったり、アメリカでも大統領が代わったりと、あらためてふり返ると本当にいろいろあったね。」

晶子さん「今年はどんな一年になるのかしら。いい年になるといいわね。」

問1 下の地図中の **A** ～ **E** の地名を，次の説明文を参考に答えなさい。

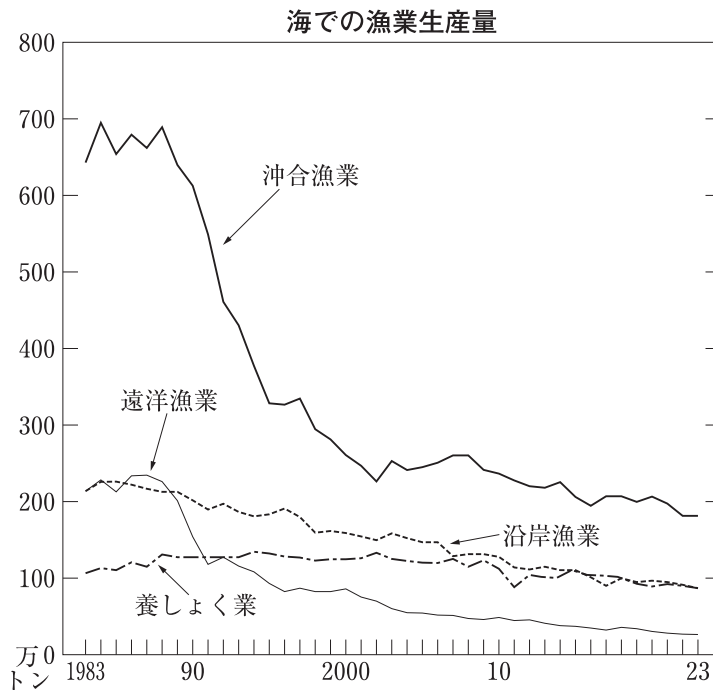
- A** 北海道最大の平野である。
- B** 岩手県と宮城県を流れ，仙台平野を通過して太平洋に注ぐ，東北地方でもっとも長い河川である。
- C** 関東平野の西側にあり，関東地方と中部地方をへだてる山地である。
- D** 琵琶湖を水源とし，滋賀県・京都府・大阪府を流れ，大阪平野を通過して大阪湾に注ぐ河川である。
- E** 九州山地の南東に広がる平野である。



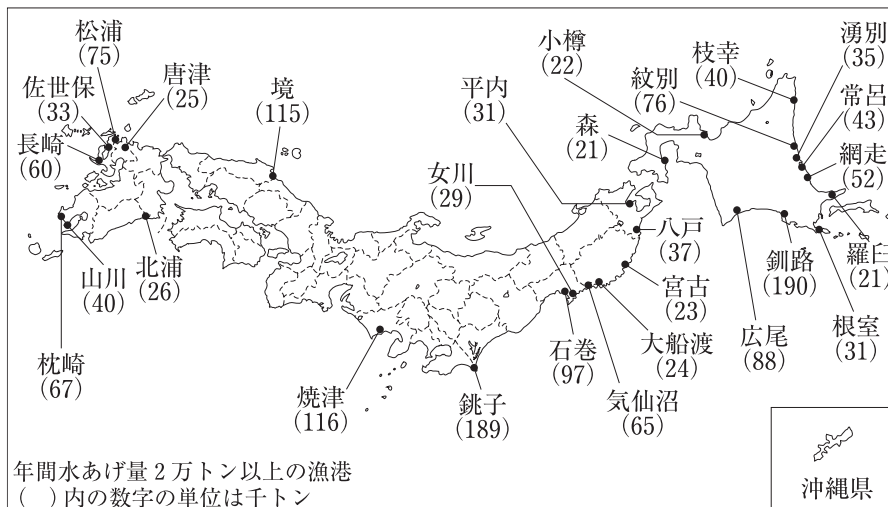
問2 下線部 a に関して、地震について説明した文として誤^{あやま}っているものを、次の 1～4 から一つ選び、記号で答えなさい。

1. 地震は、大地にずれが生じるとおこり、地震のゆれで、火災やがけくずれ、地すべりなどがおこる場合がある。
2. 海底で地震がおこると、それに合わせて海面が上下し、津波^{つなみ}が発生することがある。
3. 2011年に発生した東日本大震災では、地震のゆれと津波の被害で、多くの人がなくなった。
4. 地震が発生すると、水道やガスなどのライフラインがとまってしまうことがあるが、原子力発電所のおかげで、電気がとまることはない。

問3 下線部 b に関連して、岩手県は三陸海岸沖などで水産業がさかんです。次のグラフと地図は、海での漁業生産量の漁業種類別の変化と、おもな漁港の水あげ量を示したものです。このグラフと地図を見て、日本の漁業について説明した文として正しいものを、あとの 1～4 から一つ選び、記号で答えなさい。



おもな漁港の水あげ量 (2023年)



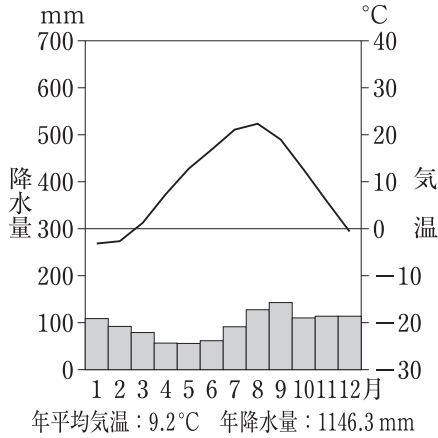
(「日本国勢図会2025/26」より作成)

1. 1980年代後半以降、遠洋漁業の生産量は減ってきているが、それでも沖合漁業の生産量よりは多い。
2. 養殖業の生産量は増えてきており、1983年以降、一度も生産量が減ったことはない。
3. 2023年に10万トン以上の水あげ量がある漁港は、水あげ量が多い順番に、釧路、銚子、焼津、境である。
4. 岩手県にある宮古、大船渡、気仙沼の三つの漁港の水あげ量を合計すると、長崎県の長崎、佐世保、松浦の三つの漁港の水あげ量の合計を上回る。

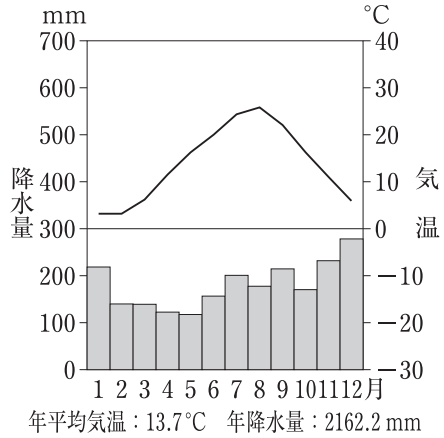
問4 下線部 c に関連して、日本の環境や公害問題について説明した文として正しいものを、次の1～4から二つ選び、記号で答えなさい。

1. 日本にはきれいな自然環境が残されている場所があり、青森県と秋田県にまたがる白神山や鹿児島県の屋久島など、世界自然遺産に登録されているところもある。
2. 第二次世界大戦後、各地に工場がつけられ経済が発展すると、日本中で公害が発生したが、今では公害はすべてなくなり、公害が原因の病気で苦しんでいる人もいない。
3. 水俣病、イタイイタイ病、四日市ぜんそく、新潟水俣病の四大公害病は、すべて大気汚染が原因で起こった。
4. 1993年に環境基本法がつけられ、2001年には環境庁が環境省になるなど、環境が改善された現在でも、さまざまな取り組みが続けられている。

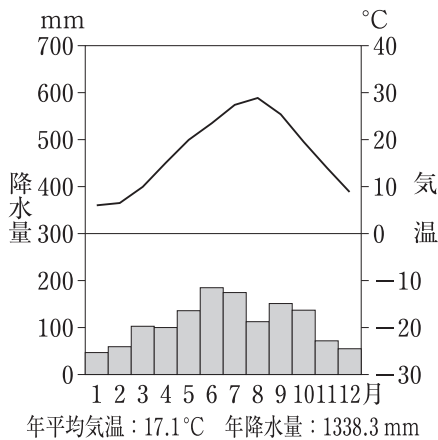
問5 下線部 d に関して、日本では地域によって気温や降水量に違いがあらわれます。次の 1～4 の雨温図は、北海道の札幌市、静岡県ちがの静岡市、石川県の輪島市、大阪府の大阪市のいずれかの雨温図です。このうち、輪島市の雨温図を選び、記号で答えなさい。



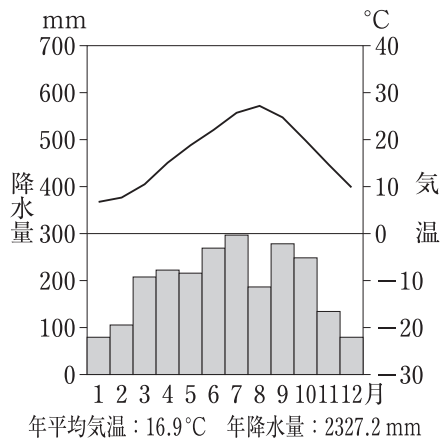
1



2



3



4

(データは1991～2020年の平均，気象庁ホームページより作成)

問6 下線部 e に関して、大阪は阪神工業地帯の中心です。これに関連して、日本の工業について説明した文として正しいものを、次の 1～4 から一つ選び、記号で答えなさい。

1. 東北地方から東海地方にかけての太平洋側の海ぞいの地域は、「太平洋ベルト」と呼ばれ、多くの工業地帯や工業地域が広がっている。
2. 中京工業地帯では、愛知県豊田市の自動車工業など、機械工業がさかんである。
3. 阪神工業地帯の工業生産額は、2000年以降、全国一位である。
4. 日本の工場は、働く人の数が多い大工場がほとんどで、中小工場の数は少ない。

問7 下線部 f に関連して、日本の農業や米づくりがかかえる問題について説明した文として誤っているものを、次の 1～4 から一つ選び、記号で答えなさい。

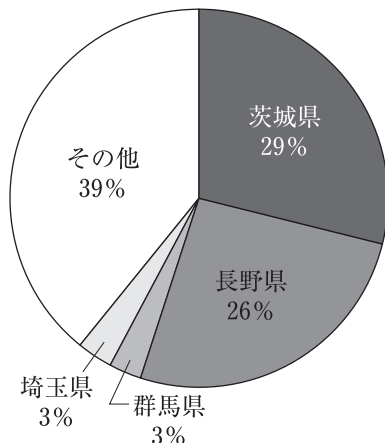
1. 農業をする若者が減ってきており、^{こうれい}高齢化が進んでいる。
2. 日本人の食生活の変化により、米の消費量が減ってきている。
3. 米の食料自給率は低く、外国から大量に輸入している。
4. 最近では、多くの産地で、味がよく品質の高いブランド米が開発されている。

問8 下線部 g に関して、沖縄県の人々のくらしや産業を説明した文として正しいものを、次の 1～4 から二つ選び、記号で答えなさい。

1. 伝統的な家は、夏の暑さを防ぐため、^{たかゆか}高床式の丸太造りで、ほとんどかべのない家となっている。
2. 暖かい土地でよく育ち、強風や日照りに強い小麦の栽培が^{さいばい}さかんである。
3. 美しい海や豊かな自然、独自の伝統的な文化などを求めて、多くの観光客が訪れている。
4. 現在でも、多くの土地が、アメリカ軍の軍用地として使われている。

問9 下線部 h に関連して、大都市の近くでも大都市向けの野菜や果物などを生産する農業がおこなわれています。次のグラフは、ある農作物の都道府県別収穫量しゅうかくの上位を示したものです。茨城県が収穫量 1 位のこの農作物は何か、下の 1～4 から一つ選び、記号で答えなさい。

2023年の収穫量の割合



(「日本国勢図会2025/26」より作成)

1. りんご 2. はくさい 3. たまねぎ 4. 茶

問10 下線部 i に関連して、広島県はレモンの生産がさかんです。次の表は、レモンと同じかんきつ類のみかんの都道府県別収穫量しゅうかくの上位を示したものです。表中の () にあてはまる都道府県はどこか、下の 1～4 から一つ選び、記号で答えなさい。

2023年度の収穫量

都道府県	収穫量 (単位 トン)	全国比 (%)
()	143,900	21.1
愛媛県	111,100	16.3
静岡県	99,800	14.6
熊本県	80,600	11.8
長崎県	43,600	6.4
全国	681,600	100.0

(「日本国勢図会2025/26」より作成)

1. 北海道 2. 青森県 3. 和歌山県 4. 宮崎県

2 次のA～Fの文を読んで、あとの問いに答えなさい。

- A 7世紀前半、蘇我氏が天皇をしのぐほどの勢力をもつようになると、中大兄皇子と (①) は、645年に蘇我氏をほろぼし、中国で新しい知識などを学んできた留学生とともに、天皇を中心とする国づくりを進めた。
a
- B 平安時代には、朝廷の政治を一部の有力な貴族が動かすようになった。(②) は、むすめを天皇の后にして天皇とのつながりを強くして大きな力を持ち、「この世をば我が世とぞ思う望月の欠けたることもなしと思えば」という歌をよんだ。また、中国の文化をもとにした日本風の貴族文化も生まれた。
b
- C 鎌倉時代の1221年、朝廷は幕府をたおす命令を全国に出した。しかし、鎌倉に幕府を開いた源頼朝の妻であった (③) が、御家人たちに頼朝の「ご恩」を説き、団結をうったえると、御家人たちは京都に攻め上り、朝廷の軍を破った。これを (④) という。
- D 京都に開かれた室町幕府の3代将軍 (⑤) は、中国(明)と貿易をおこなうとともに、文化や芸術を保護した。そうした影響もあり、この室町時代には、日本の伝統文化として現在にも受けつがれている文化が発達した。
c
- E 尾張(愛知県)の農村に住む身分の低い武士の子として生まれたといわれている (⑥) は、朝廷から関白に命じられ、四国や九州、関東、東北の戦国大名や、一向宗などの仏教勢力をおさえ、天下統一を成しとげた。さらに (⑥) は、支配を固めるために、さまざまな政策をおこなった。
d
- F 江戸時代の後半、もと幕府の役人であった (⑦) が、生活に苦しむ人々を救うために同志を集めて兵をあげ、大阪の大商人の屋敷などに攻め入った。この事件は、1日でおさえられたが、幕府をおどろかせた。

問1 Aの文中の(①)にあてはまる人物名を答えなさい。

問2 Aの文中の下線部aに関して、この国づくりについて述べた文として誤っているものを、次の1～4のうちから一つ選び、記号で答えなさい。

1. 初めて年号が定められた。
2. 豪族が支配していた土地や人々は、すべて国のものとなった。
3. 冠位十二階や十七条の憲法を定めた。
4. この国づくりのことを大化の改新という。

問3 Bの文中の(②)にあてはまる人物名を答えなさい。

問4 Bの文中の下線部bに関して、この文化のころに生まれ、貴族の生活の様子や風景がえがかれた絵を何というか、次の1～4のうちから一つ選び、記号で答えなさい。

1. 大和絵
2. にせ絵
3. 水墨画
4. 浮世絵

問5 Cの文中の(③)にあてはまる人物名を答えなさい。

問6 Cの文中の(④)にあてはまるできごととして正しいものを、次の1～4のうちから一つ選び、記号で答えなさい。

1. 保元の乱
2. 平治の乱
3. 承久の乱
4. 応仁の乱

問7 Dの文中の(⑤)にあてはまる人物として正しいものを、次の1～4のうちから一つ選び、記号で答えなさい。

1. 足利尊氏
2. 足利義満
3. 足利義政
4. 足利義昭

問8 Dの文中の下線部cに関して、この時代の文化について述べた文として誤っているものを、次の1～4のうちから一つ選び、記号で答えなさい。

1. 茶の湯が広まり、生け花もさかんになった。
2. 雪舟が中国から伝わったすみ絵を芸術として大成した。
3. 障子やふすまがあり、現在の和室に似た書院造の部屋がつくられるようになった。
4. 近松門左衛門が人形浄瑠璃じょうるり きやうほんの脚本を書いた。

問9 Eの文中の(⑥)にあてはまる人物名を答えなさい。

問10 Eの文中の下線部dに関して、次の資料は、(⑥)の人物がおこなった政策について説明したものです。この政策を何というか、答えなさい。

- 一 百姓が、刀・弓・やり・鉄砲、そのほかの武器を持つことをかたく禁止する。
- 一 取り上げた武器は、無駄にはしない。新しく大仏をつくるためのくぎなどに役だてる。

問11 Fの文中の(⑦)にあてはまる人物名を答えなさい。

問12 Fの文中の下線部eに関して、江戸時代のできごとについて述べた次の文Ⅰ～Ⅲについて、古いものから年代順に正しくならべたものを、下の1～6のうちから一つ選び、記号で答えなさい。

- Ⅰ 武家諸法度が定められる。
- Ⅱ 歌川広重が『東海道五十三次』を完成させる。
- Ⅲ 島原・天草一揆がおこる。

- 1. Ⅰ－Ⅱ－Ⅲ 2. Ⅰ－Ⅲ－Ⅱ 3. Ⅱ－Ⅰ－Ⅲ
- 4. Ⅱ－Ⅲ－Ⅰ 5. Ⅲ－Ⅰ－Ⅱ 6. Ⅲ－Ⅱ－Ⅰ

3 次の年表を見て、あとの問いに答えなさい。

年	できごと
1853	ペリーが来航する ↓ a
1868	五箇条の御誓文が示される ↓ b
1894	日清戦争が始まる ↓ c
1914	第一次世界大戦が始まる
1925	普通選挙制度が定められる…………… d
1931	満州事変がおこる…………… e
1939	第二次世界大戦が始まる…………… f
1945	第二次世界大戦が終わる ↓ g
1978	日中平和友好条約が結ばれる

問1 年表中の a の時期のできごとについて述べた次の 1～4 の文のうち、内容が誤っているものを一つ選び、記号で答えなさい。

1. 日米和親条約を結んで、下田と長崎の港が開かれることになった。
2. 日米修好通商条約を結んで、アメリカと貿易を始めることになった。
3. 薩摩藩（鹿児島県）と長州藩（山口県）が幕府をたおすために同盟を結んだ。
4. 15代将軍の徳川慶喜が、政権を朝廷に返上した。

問2 年表中のbの時期のできごとについて述べた次の1～4の文のうち、内容が正しいものを一つ選び、記号で答えなさい。

1. 政府は藩を廃止し、新たに府や県を置く版籍奉還をおこなった。
2. 政府は殖産興業に力を入れ、北海道に富岡製糸場をつくった。
3. 政府に不満をもつ士族が、大久保利通を中心として反乱をおこした。
4. 天皇が国民にあたえるという形で、大日本帝国憲法が公布された。

問3 年表中のcの時期のできごとについて述べた次の文Ⅰ～Ⅲについて、古いものから年代順に正しくならべたものを、下の1～6のうちから一つ選び、記号で答えなさい。

- Ⅰ 日露戦争が始まる。
Ⅱ 日本が韓国を併合する。
Ⅲ 八幡製鉄所が操業を始める。

1. Ⅰ－Ⅱ－Ⅲ 2. Ⅰ－Ⅲ－Ⅱ 3. Ⅱ－Ⅰ－Ⅲ
4. Ⅱ－Ⅲ－Ⅰ 5. Ⅲ－Ⅰ－Ⅱ 6. Ⅲ－Ⅱ－Ⅰ

問4 年表中のdに関して、この普通選挙制度で衆議院議員の選挙権をもつようになったのはどのような人か、次の1～4のうちから一つ選び、記号で答えなさい。

1. 国税15円以上を納めている25才以上の男子
2. 25才以上のすべての男子
3. 25才以上のすべての男女
4. 20才以上のすべての男子

問5 年表中のeに関連して、日本と中国との戦争について述べた次の1～4の文のうち、内容が正しいものを一つ選び、記号で答えなさい。

1. 満州（中国東北部）にいた中国軍が、南満州鉄道の線路を爆破し、日本軍に攻撃を始め、満州事変が始まった。
2. 日本に対抗するため、中国は満州を独立させて手を結んだが、満州国の政治の実権は中国がにぎった。
3. 国際連盟が満州の独立を認めたため、日本は国際連盟を脱退した。
4. 1937年、日本軍と中国軍が北京郊外で戦いを始め、これがきっかけとなって全面的な日中戦争となった。

問6 年表中の f に関して、第二次世界大戦と太平洋戦争について述べた次の1～4の文のうち、内容が誤っているものを一つ選び、記号で答えなさい。

1. 1939年、ヨーロッパでヒトラーが率いるドイツが周辺の国々を侵略し、第二次世界大戦が始まった。
2. 1940年、日本・ドイツ・イタリアは軍事同盟を結んだ。
3. 1941年、日本がハワイの真珠湾にあったイギリスの軍港や、マレー半島のアメリカ軍を攻撃し、太平洋戦争が始まった。
4. 戦争中、日本国内では、中学生や女学生が兵器工場に動員され、大学生は兵士として動員され、戦場に出陣した。

問7 年表中の g の時期のできごとについて述べた次の文Ⅰ～Ⅲについて、古いものから年代順に正しくならべたものを、下の1～6のうちから一つ選び、記号で答えなさい。

- Ⅰ 大阪で日本万国博覧会が開かれる。
- Ⅱ 日本国憲法が公布される。
- Ⅲ 高度経済成長が始まる。

- | | | |
|----------|----------|----------|
| 1. Ⅰ－Ⅱ－Ⅲ | 2. Ⅰ－Ⅲ－Ⅱ | 3. Ⅱ－Ⅰ－Ⅲ |
| 4. Ⅱ－Ⅲ－Ⅰ | 5. Ⅲ－Ⅰ－Ⅱ | 6. Ⅲ－Ⅱ－Ⅰ |

問8 次の(1)～(3)の文で説明されている人物の名をそれぞれ答えなさい。

- (1) 江戸時代後期中津藩（大分県）の下級武士の家に生まれた。幕末に欧米にわたり、帰国後、慶応義塾を開いた。明治時代には『学問のすゝめ』を書くなど、教育者として活躍した。
- (2) 現在の和歌山県に生まれ、幕末には坂本龍馬がつくった海援隊で活躍した。明治時代に外務大臣となり、イギリスと交渉をおこない、不平等条約の一部を改正し、治外法権を廃止した。
- (3) 現在の大阪府堺市に生まれ、歌人・作家となった。日露戦争がおこった時、兵士として戦場にいる弟を心配して「君死にたまふことなかれ」を発表した。