

2026年度

# 社会科

初芝橋本高等学校A

## 〔注 意〕

- ①所持品は椅子の下に整頓せいとんしなさい。(机の中には何も入れてはいけません)
- ②チャイムの鳴り始めが「始め」、「終わり」の合図です。
- ③問題用紙は合図があるまで開いてはいけません。
- ④試験開始後、受験番号・氏名を記入しなさい。
- ⑤問題・解答用紙に不明な点があれば黙って手を挙げなさい。
- ⑥解答が終わっても試験終了時間まで退出できません。
- ⑦試験中、体調不良などで連絡のあるときは黙って手を挙げなさい。
- ⑧冊子の裏側にも注意事項があるので読んでおきなさい。

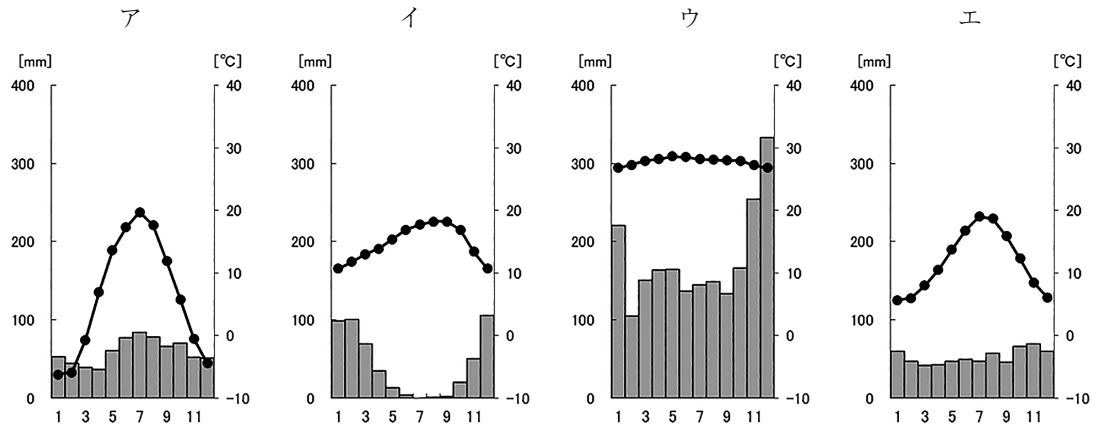
受験番号	
氏 名	

【1】 2026年にはアメリカ合衆国・カナダ・メキシコの3か国が共同開催するサッカーワールドカップが行われる。これに関連して、次の問いに答えなさい。

問1 3か国が位置する北アメリカ大陸には高く険しいロッキー山脈がある。ロッキー山脈と同じ環太平洋造山帯に含まれるものとして適当でないものを、次のア～エから1つ選び、記号で答えなさい。

ア ヒマラヤ山脈      イ アンデス山脈      ウ ニュージーランド      エ 日本列島

問2 次のア～エは、アメリカ合衆国のサンフランシスコ、シンガポール、ロシア連邦の首都モスクワ、イギリスの首都ロンドンの雨温図を示している。サンフランシスコの雨温図として適当なものを、ア～エから1つ選び、記号で答えなさい。



(気象庁資料などにより作成。)

問3 アメリカ合衆国では、1775年に東部13州とイギリスとの間で戦争が始まり、翌年に独立宣言が発表された。この独立戦争で最高司令官を務め、のちにアメリカ合衆国の初代大統領となった人物として適当なものを、次のア～エから1つ選び、記号で答えなさい。

ア ウィルソン      イ リンカン      ウ ルーズベルト      エ ワシントン


問4 次のア～エは、アメリカ合衆国が世界有数の生産量をほこる農産物である小麦、大豆、トウモロコシ、ブドウの生産量上位5か国と、その生産量を示したものである。トウモロコシを示したものとして適当なものを、ア～エから1つ選び、記号で答えなさい。

ア		イ		ウ		エ	
国名	万トン	国名	万トン	国名	万トン	国名	万トン
中国	13,772	アメリカ	34,875	中国	1,260	ブラジル	12,070
インド	10,774	中国	27,720	イタリア	844	アメリカ	11,638
ロシア	10,423	ブラジル	10,942	フランス	620	アルゼンチン	4,386
アメリカ	4,490	アルゼンチン	5,904	スペイン	590	中国	2,028
オーストラリア	3,624	インド	3,373	アメリカ	537	インド	1,299

(統計年次は2022年。データブック オブ・ザ・ワールドにより作成。)

問5 アメリカ合衆国では、地域ごとに異なる土壌や気候などの自然環境に合った農作物を集中的に栽培している。このような農業を何というか、漢字4字で答えなさい。

問6 アメリカ合衆国の乾燥地域では、次の写真のように、くみ上げた地下水に肥料を混ぜ合わせ、自走式のスプリンクラーで灌漑を行う農法が行われている。このような農法を何というか、あとのア～エから1つ選び、記号で答えなさい。



ア フィールドロット

イ プランテーション

ウ センターピボット

エ 輪中

問7 アメリカ合衆国では、地価が安く、広い土地を確保しやすいことや、安価な労働力を得やすいことなどを背景に、北緯37度以南の温暖な地域で、1970年代以降、航空宇宙産業や先端技術産業が発達した。この地域を何というか、カタカナで答えなさい。

問8 アメリカ合衆国の西部に位置するサンフランシスコの郊外は半導体や携帯電話、ウェブサービスなど情報通信技術（IT）産業などの集積地となっており、シリコンバレーとよばれている。これについて、次の先生と生徒の会話文中の（ A ）・（ B ）に適する語句の組み合わせとして適当なものを、あとのア～エから1つ選び、記号で答えなさい。

先生：アメリカ合衆国のシリコンバレーには、たくさんの IT 企業があるけど、その一部はインドの（ A ）にコールセンター業務を任せているんだ。

生徒：そんな遠くで仕事ができるんですか？

先生：できるんだよ。サンフランシスコの標準時子午線は西経 120 度、（ A ）の標準時子午線は東経 82.5 度だから、サンフランシスコが午後 6 時のとき、（ A ）は何時かな？

生徒：んー、（ B ）ですね！だから、時差を利用して仕事を引き継いでるんですね！

先生：そう。だから、24 時間体制で業務を進めることができるんだ。

	ア	イ	ウ	エ
A	ドバイ	ドバイ	ベンガルール	ベンガルール
B	午前 7 時半	午前 4 時半	午前 7 時半	午前 4 時半

問9 アメリカ合衆国、カナダ、メキシコの3か国における人種や民族について述べた文として適当でないものを、次のア～エから1つ選び、記号で答えなさい。

- ア カナダは英語を話す人が圧倒的多数を占めるが、フランス語を話す人の割合が高い州がある。
- イ 近年、アメリカ合衆国では、ポルトガル語を話すメキシコからの移民を中心とするヒスパニックが増加している。
- ウ アメリカ合衆国の南東部には、かつてアフリカから連れてこられた黒人奴隷の子孫が多く、現在でも黒人の居住割合が高い地域がある。
- エ カナダの北部には、先住民であるイヌイットが生活をしている。

問10 アメリカ合衆国とカナダおよびメキシコの国境線は、河川などを利用した自然的国境や、経緯線を利用した人為的国境で設定されている。世界の国々の国境線について述べた文として適当でないものを、次のア～エから1つ選び、記号で答えなさい。

- ア ノルウェーとスウェーデンの国境線は、主にスカンディナビア山脈を利用して定められている。
- イ エジプトとその西隣に位置するリビアとの国境線は、植民地時代に欧米諸国が地図上で線を引いて決めたため、経線に沿って引かれている。
- ウ スペインとフランスの国境線の大部分は、アルプス山脈を利用して定められている。
- エ アメリカ合衆国とメキシコの国境線は、主にリオグランデ川を利用して定められている。

問11 北アメリカ大陸の北緯 40 度より北に広く分布し、モミやカラマツなどの針葉樹が大部分を占める森林帯を何というか。適当なものを、次のア～エから 1 つ選び、記号で答えなさい。

ア サバナ      イ タイガ      ウ ツンドラ      エ マングローブ

問12 アメリカ合衆国は、世界最大の産油国であるが、消費量も多いため輸入量も多い。しかし、最近、技術の進歩によって、これまで採掘の難しい場所にあった（      ）などの採掘が可能になってきた。（      ）にあてはまる語句として適当なものを、次のア～エから 1 つ選び、記号で答えなさい。

ア バイオ燃料      イ パーム油  
ウ メタンハイドレート      エ シェールオイル

問13 次の表は、アメリカ合衆国・カナダ・メキシコの貿易相手国とその割合を示したものである。この表からは、北米の 3 か国間で貿易が特にさかんに行われていることが読み取れる。これは、3 か国が貿易の自由化を目的とした組織を結成し、経済的な結びつきを強化してきたためである。この組織は現在 USMCA として改編されたが、USMCA の前身となる組織として適当なものを、あとのア～エから 1 つ選び、記号で答えなさい。

アメリカ合衆国		カナダ		メキシコ	
国名	割合 (%)	国名	割合 (%)	国名	割合 (%)
中国	16.3	アメリカ	65.0	アメリカ	63.4
カナダ	14.9	中国	8.3	中国	9.9
メキシコ	14.3	メキシコ	4.0	日本	2.8
日本	5.4	日本	2.6	カナダ	2.7
ドイツ	4.5	ドイツ	2.1	ドイツ	2.4
その他	44.6	その他	18.0	その他	18.8
計：3 兆 6616 億ドル		計：7725 億ドル		計：7559 億ドル	

(統計年次は 2016 年。UN Comtrade により作成。)

ア NAFTA      イ ASEAN      ウ TPP      エ EU

【2】日本は、国土が南北に長く、多様な自然環境や歴史的背景を持つことから、地方ごとに気候、産業、文化、社会の様子が大きく異なる。日本の各地方に関する、次のア～エの文について、内容が誤っているものを、それぞれ1つ選び、記号で答えなさい。

問1 北海道地方

- ア 北海道の太平洋側では、夏は水分の多い南東季節風が寒流の影響で冷やされ、沿岸部で濃霧が発生しやすくなる。
- イ 北海道には、独自の言語を話し、独自の文化を発展させていた先住民族のアイヌの人々が暮らしてきた。
- ウ 泥炭地が広がる十勝平野は、稲作に適した土を運び入れる客土を行うことで、日本有数の米の生産地となっている。
- エ 世界遺産に登録されている知床では、観光客が増加する一方で、自然環境を損なう恐れもある。そこで、自然との関わり方を考えるエコツーリズムという観光の形が広がっている。

問2 東北地方

- ア 東北地方の太平洋側に位置する三陸海岸は山地が沈降して形成された、出入りが複雑な海岸地形であるフィヨルドがみられる。
- イ 東北地方では、雪におおわれて農作業ができない冬に、家の中でもできる仕事として工芸品がつくられ、こうした技術は伝統産業として受け継がれている。岩手県の南部鉄器は、その一例である。
- ウ 東北地方の太平洋側には、暖流と寒流がぶつかる潮境（潮目）があり、多くの魚が集まる好漁場となっている。そのため、太平洋沿岸には八戸港などの漁港が発達している。
- エ 東北地方では果実の栽培がさかんに行われており、特に青森県のりんごや山形県のさくらんぼは日本一の生産量となっている。

問3 関東地方

- ア 国際都市である東京には、仕事や観光、留学といったさまざまな目的で多くの外国人が集まることから、都道府県別の在留外国人数は東京都が第1位となっている。
- イ 東京都やその周辺部では、ビルや商業施設が集中することから、気温が周囲より高いヒートアイランド現象がみられる。
- ウ 関東地方の内陸部に広がる北関東工業地域では、工場への外国人労働者の受け入れに積極的な市町村もあり、特に日系ブラジル人が多く住んでいる地域がある。
- エ 群馬県の嬭恋村では、夏の冷涼な気候をいかしてキャベツの促成栽培がさかんである。

#### 問4 中部地方

- ア 中部地方には、飛騨山脈・木曾山脈・赤石山脈などの山々が連なり、これらは総称して日本アルプスと呼ばれている。
- イ 長野盆地や甲府盆地では三角州が広がり、水はけのよい土地をいかした果樹栽培がさかんに行われている。
- ウ 北陸地方では、豊富な雪解け水などを利用した水力発電がさかんである。富山県では、この安い電力をいかしてアルミニウム工業が発達した。
- エ 愛知県や岐阜県などにまたがる中京工業地帯は、自動車工業を中心とする輸送用機械の生産がさかんで、自動車は近隣の名古屋港や三河港の最大輸出品目となっている。

#### 問5 近畿地方

- ア 紀伊半島は険しい山に太平洋からの湿った季節風が吹きつけるため、日本有数の多雨地域であり、古くから豊かな森林資源に恵まれた林業地域でもある。
- イ 京都や奈良は、国際的な観光都市であり、東大寺や金閣などの多くの世界遺産があるが、景観を守るための規制などがないため、都市開発が急速に進んでいる。
- ウ 阪神工業地帯では、中小企業が経営する工場が多く、高い技術力と品質により、国内外から高い評価を得ている。
- エ 高度経済成長期に建設された千里ニュータウンや泉北ニュータウンは、開発から半世紀以上がたち、建物の老朽化や住民の少子高齢化が新たな課題となっている。

#### 問6 中国・四国地方

- ア 本州四国連絡橋の完成により、四国地方の産業は活性化し、人口も大きく増加したことから、山間部でみられた過疎化は解消された。
- イ 中国山地と四国山地に囲まれた瀬戸内では、年間を通じて降水量が少ない。そのため、生活用水や農業用水を得るために、讃岐平野では昔からため池がつくられてきた。
- ウ 瀬戸内海のおだやかな海域は魚介類の養殖に適しており、広島湾のかきや愛媛県のまだいの生産量は全国有数である。
- エ 過疎化に悩んでいた地域の中には、生産者が加工や販売などにも取り組む第6次産業化がすすめられ、地域の活性化や雇用の創出などに成功した地域もある。

#### 問7 九州地方

- ア 九州地方には、世界最大級のカルデラをもつ阿蘇山など多くの火山が分布しており、温泉水や地熱を利用した地熱発電がさかんに行われている。
- イ 九州南部では、肉牛や豚、にわとりなどの畜産業がさかんで、鹿児島県はいずれの飼育頭数も日本有数である。
- ウ 九州北部は、八幡製鉄所を中心に日本で最初に近代的な工業が発展した地域である。しかし、エネルギー源が石油から天然ガスに変わるエネルギー革命が進み、その地位は低下した。
- エ 比較的広い平野が広がる九州北部では稲作がさかんで、筑紫平野では稲作に加えて、冬に小麦などを裏作として栽培する二毛作がさかんに行われてきた。

【3】それぞれの文章を読んで、あとの問いに答えなさい。

中国では6世紀の末に、隋が南北朝を統一して、強大な帝国を造り上げた。日本は、隋の進んだ制度や文化を取り入れようと、607年に（ ）を使者として送り、この後、数回にわたって隋に使者を送った。

問1 （ ）には遣隋使として隋に渡った人物が入る。あてはまる人物名を漢字で答えなさい。

問2 問1の人物が活躍した頃の出来事について述べた文として誤っているものを、次のア～エから1つ選び、記号で答えなさい。

- ア 女性の推古天皇が即位し、<sup>おい</sup>甥の聖徳太子（<sup>うまやどのおうじ</sup>厩戸皇子）と蘇我馬子とが協力し、政治を行った。
- イ 氏や姓にとらわれずに、個人の才能・功績に対して冠位を与える冠位十二階が定められた。
- ウ 仏教や儒学の考え方を取り入れた十七条の憲法では、天皇の命令に従うべきことなど、役人の心構えを示した。
- エ 中国にならって和同開珎が発行され、平城京に設けられた市で使用された。

平安時代には藤原氏が①撰関政治を展開し、他の貴族たちを退け、勢力を強めた。9世紀後半には、貴族を中心に、それまでの②唐風の文化を消化したうえで、日本の風土や生活、日本人の感情に合った文化が生まれた。とくに漢字を変形させて、日本語の発音を表せるように工夫した③かな文字が作られたことで多くの文学作品が生まれた。

問3 下線部①について、撰関政治やその時代について述べた文として正しいものを、次のア～エから1つ選び、記号で答えなさい。

- ア 藤原氏のなかで撰政・関白の座をめぐって争いが起こり、藤原道長は<sup>おい</sup>甥の藤原純友と争った。
- イ 藤原道長は4人の娘を天皇のきさきとし、生まれた孫たちを次々と天皇にして、大きな権力を握った。
- ウ 撰関政治が行われるようになると、従来の律令政治は全く機能しなくなった。
- エ 藤原頼通は、この時代を代表する阿弥陀堂である中尊寺金色堂を京都の宇治に建立した。

問4 下線部②について、唐の国内が乱れ、往復の行程も危険なため、894年に遣唐使の派遣を延期することを提案した人物は誰か。漢字で答えなさい。

問5 下線部㉓について、かな文学の作者①・②と、その作品 a～d との組み合わせとして正しいものを、あとのア～エから1つ選び、記号で答えなさい。

① 紫式部

② 紀貫之

a 『枕草子』

b 『源氏物語』

c 『土佐日記』

d 『新古今和歌集』

ア ①・a ②・c

イ ①・a ②・d

ウ ①・b ②・c

エ ①・b ②・d

元は日本に対して朝貢を強く要求してきた。㉔鎌倉幕府の8代執権北条時宗はこの要求を拒否したため、二度にわたり元軍が九州北部に襲来してきた。これを㉕元寇という。これ以降、北条氏への不満が高まり、幕府の支配は動揺した。

問6 下線部㉖について、この時代の出来事に関して述べた次の文Ⅰ～Ⅲについて、古いものから年代順に配列したものを、あとのア～エから1つ選び、記号で答えなさい。

Ⅰ 裁判を公平に行うための基準として御成敗式目が定められた。

Ⅱ 源義経をかくまったことを理由に奥州藤原氏が滅ぼされた。

Ⅲ 北条時政は執権に就き、幕府の実権を握るようになり、北条氏が代々その地位を独占した。

ア Ⅰ→Ⅱ→Ⅲ

イ Ⅱ→Ⅲ→Ⅰ

ウ Ⅲ→Ⅱ→Ⅰ

エ Ⅱ→Ⅰ→Ⅲ

問7 下線部㉗について、元寇後の元と日本について述べた文として誤っているものを、次のア～エから1つ選び、記号で答えなさい。

ア 元は3回目となる日本への攻撃を計画していた。

イ 元寇を機会に、御家人たちは貧しくなり領地を手放す者もでてきた。

ウ 九州の博多に六波羅探題を設置し、九州地方の政務や裁判の判決に当たらせた。

エ 幕府は永仁の徳政令を出し、手放す領地の対策を行ったが、かえって混乱を招いた。

室町時代に建てられた代表的な建築物といえば、鹿苑寺金閣と慈照寺銀閣を思い浮かべる人も多いだろう。鹿苑寺金閣が建てられたのは、3代将軍②足利義満の時代である。足利義満は、南北朝の統一を実現した。慈照寺銀閣が建てられたのは、8代将軍（ ）の時代であり、1467年には⑥応仁の乱が始まった。

問8 下線部②について、この人物が活躍した頃の出来事として誤っているものを、次のア～エから1つ選び、記号で答えなさい。

- ア 李成桂が高麗を滅ぼし、朝鮮国を建国した。
- イ 明は倭寇の取り締まりを、日本に要求し、朝貢形式の日明貿易を始めた。
- ウ 加賀（石川県）では一向宗の勢力が一揆を起こし、自治的な支配を100年近く行った。
- エ 花の御所とよばれた京都の邸宅で政治を行った。

問9 （ ）には、室町幕府8代将軍の人物が入る。「足利」に続く形であてはまる人物名を漢字で答えなさい。

問10 下線部⑥について、応仁の乱の影響について述べた文として誤っているものを、次のア～エから1つ選び、記号で答えなさい。

- ア 守護大名の地位を奪って権力を握った戦国大名が各地に登場した。
- イ 将軍の権威が衰え、かわって朝廷の権威が増すようになった。
- ウ 下位の者が上位の者に実力で打ち勝ち、その地位を奪う下剋上の風潮がみられるようになった。
- エ 山城（京都府）の南部では、武士と農民とが一体となって山城国一揆をおこし、守護大名を追い払って、自治を行った。

江戸時代の日本は、海外との交流を制限する政策をとった。のちに「④鎖国」という言葉で呼ばれたこの政策は、幕府によって厳しく統制され、結果的に約200年間続くことになった。しかし、19世紀半ばになると欧米諸国が来航し、日本は⑥開国へと向かうこととなった。

問11 下線部④について、「鎖国」につながる幕府の動きを述べた文として誤っているものを、次のア～エから1つ選び、記号で答えなさい。

- ア 蝦夷地を支配下におくため、薩摩藩に軍を送らせた。
- イ 島原・天草一揆のあと、ポルトガル船の来航を禁止させた。
- ウ 貿易の拠点として、オランダ商館を長崎の出島に移した。
- エ キリスト教の教えを広める行為などが禁止され、絵踏を強化した。

問12 下線部⑤について、日本が開国した頃の出来事に関して述べた次の文Ⅰ～Ⅲについて、古いものから年代順に配列したものを、あとのア～エから1つ選び、記号で答えなさい。

- Ⅰ 大老の井伊直弼は朝廷の許可を得ないまま、日米修好通商条約を結んだ。
- Ⅱ ペリーの軍事的な圧力を前に、幕府は日米和親条約を結び、下田と函館の2港を開いた。
- Ⅲ 幕府の政策を批判した吉田松陰は、安政の大獄によって処刑された。

ア Ⅰ→Ⅱ→Ⅲ      イ Ⅱ→Ⅲ→Ⅰ      ウ Ⅲ→Ⅱ→Ⅰ      エ Ⅱ→Ⅰ→Ⅲ

元禄期は、大坂・京都などの上方を中心に町人が文化の担い手となった。文学では、浮世草子を世に出した（      ）が代表的な人物であり、『奥の細道』を著した松尾芭蕉も、この時代に活躍した。江戸時代の後半には、化政文化がさかえ、人々の娯楽も多様化した。浮世絵の技術も進み、すぐれた作品が生まれた。

問13 （      ）には『日本永代蔵』など、町人や武士の生活を生き生きと描いた作品で、多くの読者を獲得した人物が入る。（      ）にあてはまる人物名として適当なものを、次のア～エから1つ選び、記号で答えなさい。

ア 尾形光琳      イ 出雲阿国      ウ 井原西鶴      エ 曲亭（滝沢）馬琴

問14 下線部について、化政文化は、江戸を中心とした町人文化であるが、この時代の人物とその作品との組み合わせとして正しいものを、次のア～エから1つ選び、記号で答えなさい。

ア 葛飾北斎 — 『見返り美人図』      イ 歌川（安藤）広重 — 『東海道五十三次』  
ウ 十返舎一九 — 『南総里見八犬伝』      エ 近松門左衛門 — 『徒然草』

明治新政府は政治方針として、①五箇条の御誓文を定め、会議を開いて世論に基づいた政治を行う方針が示された。しかし、藩閥政治を続ける政府に対して、異を唱える②板垣退助は1874年、政府に民撰議院設立の建白書を提出し、国会の開設と立憲政治の実現を目指す自由民権運動を始めた。国会開設の勅諭により、議会の開かれることが決定すると、自由民権運動は理想の政治のあり方を議論し、③憲法の学習会を開いたりするようになった。

問15 下線部④について、これにあたる史料を、次のア～エから1つ選び、記号で答えなさい。

- ア 一に曰く、和をもって貴しとなし、さからうことなきを宗とせよ
- イ 大日本帝国ハ万世一系ノ天皇之ヲ統治ス
- ウ 広く会議ヲ興シ万機公論ニ決スベシ
- エ 天は人の上に人を造らず、人の下に人を造らずと云へり

問16 下線部⑥について、板垣退助と同じく明治時代に活躍した人物①・②と、その人物に関係のあることがらを説明した下の文 a～c との組み合わせとして正しいものを、あとのア～エから1つ選び、記号で答えなさい。

① 大隈重信

② 西郷隆盛

a 立憲改進黨を結成し、自由民権運動を主導した。のちに日本初の政党内閣を誕生させた。

b 富岡製糸場の建設や銀行の設立にたずさわって、「日本資本主義の父」と称された。

c 征韓論に敗れて政府を退き、西南戦争の指導者として新政府軍と戦った。

ア ①・a      イ ①・c      ウ ②・a      エ ②・b

問17 下線部⑦について、1889年に発布された大日本帝国憲法の特徴として正しいものを、次のア～エから1つ選び、記号で答えなさい。

ア 国民によって政治が行われるということを定めた憲法である。

イ 君主の制限が多く、議会中心に定められている憲法である。

ウ 国民の自由や権利が保障されている近代的な憲法である。

エ 国民の自由や権利に制限がある君主権の強い憲法である。

中国国民党の蒋介石は南京に国民政府を樹立した。それに対し、日本の①関東軍は満州を日本の影響下に置こうと考えており、1931年、南満州鉄道の線路を爆破した。これを中国の仕業であるとして軍事行動を開始し、②翌年には満州国を建国した。この後も日中の対立は深まり、③1937年に日中戦争が始まり、終戦まで戦争状態が続いた。

問18 下線部①について、関東軍の行動に対する当時の日本国民の世論として最も適当なものを、次のア～エから1つ選び、記号で答えなさい。

- ア 日本から遠い満州で起こった事件だったため、あまり関心は持たなかった。
- イ 政府の指令を無視した、関東軍を批判した。
- ウ 関東軍の勝手な動きを厳しく批判し、軍部を抑制しようとする政党政治を支持した。
- エ 世界恐慌による不況を打ち破る快挙として関東軍の動きを支持した。

問19 下線部②について、1932年におこった五・一五事件は政党政治から軍部中心の政治へ転換する契機となった。この事件で暗殺された当時の首相は誰か。漢字で答えなさい。

問20 下線部③について、この間の出来事に関して述べた次の文Ⅰ～Ⅲについて、古いものから年代順に配列したものを、あとのア～エから1つ選び、記号で答えなさい。

- Ⅰ ソ連は、アメリカ・イギリスとヤルタ会談で結んだ秘密協定に基づき、日本に対して宣戦布告をした。
- Ⅱ 日独伊三国同盟を結んで、アメリカ・イギリスに対抗した。
- Ⅲ アメリカとの交渉がまとまらず近衛文麿内閣が総辞職し、東条英機が首相となった。

ア Ⅰ→Ⅱ→Ⅲ      イ Ⅱ→Ⅲ→Ⅰ      ウ Ⅲ→Ⅱ→Ⅰ      エ Ⅱ→Ⅰ→Ⅲ

【4】 次の各問いに答えなさい。

問1 日本国憲法の各条文に関する、次の問いに答えなさい。

第4条

天皇は、この憲法の定める国事に関する行為のみを行ひ、国政に関する権能を有しない。

- ① 条文中の下線部「国事に関する行為」は、日本国憲法第7条において、( )の助言と承認により行われるとされている。( )にあてはまる語句として適当なものを、次のア～エから1つ選び、記号で答えなさい。

ア 国会      イ 内閣      ウ 裁判所      エ 国民

第11条

国民は、すべての基本的人権の享有を妨げられない。この憲法が国民に保障する基本的人権は、侵すことのできない永久の権利として、現在及び将来の国民に与へられる。

- ② 条文中の下線部「基本的人権」について述べた次のア～エの文のうち、誤っているものを1つ選び、記号で答えなさい。

ア 男女平等を推進するために、1999年に男女共同参画社会基本法が制定された。  
イ 自由権として、公共の福祉に反しない限り、財産権は侵してはならないとされている。  
ウ すべての国民が、その能力に応じて、平等に教育を受ける権利が社会権として定められている。  
エ 裁判所において裁判を受ける権利は参政権に属する。

第41条

国会は、国権の最高機関であつて、国の唯一の立法機関である。

- ③ 条文中の下線部「国会」に関する記述として、次のア～エの文中の波線部が正しいものを1つ選び、記号で答えなさい。

ア 常会（通常国会）は毎年4月中に開会される。  
イ 特別会（特別国会）は、衆議院解散後の総選挙の日から30日以内に召集される。  
ウ 内閣不信任決議は衆議院と参議院のどちらでも行うことができる。  
エ 衆議院議員の任期は6年で、3年ごとに半数が改選される。

第 68 条

内閣総理大臣は、国務大臣を任命する。但し、その過半数は、( )の中から選ばれなければならない。

- ④ 条文中の( )にあてはまる語句として適当なものを、次のア～エから1つ選び、記号で答えなさい。

ア 国会議員      イ 文民      ウ 参議院議員      エ 衆議院議員

第 92 条

地方公共団体の組織及び運営に関する事項は、地方自治の本旨に基いて、法律でこれを定める。

- ⑤ 条文中の下線部「地方自治」について述べた、次の i)・ii) の文の正誤を判断し、その組み合わせとして正しいものを、あとのア～エから1つ選び、記号で答えなさい。

- i) 地方公共団体の首長と議員は住民による直接選挙で選ばれ、その任期は4年である。  
ii) 住民が必要な署名数を集め、選挙管理委員会に提出すると、首長はただちに失職する。

ア i - 正      ii - 正      イ i - 正      ii - 誤  
ウ i - 誤      ii - 正      エ i - 誤      ii - 誤

- 問 2 次の①～⑤の説明文にあてはまる語句を、あとのア～ソからそれぞれ1つ選び、記号で答えなさい。


- ① 価格が変化する中で、ある価格のときに、消費者が買おうとする商品の量。  
② 企業が作ったものの欠陥で、けがや被害が出たとき、会社のあやまち(過失)を証明しなくても、企業に損害の賠償をさせることができるように定めた法律。  
③ 企業など使用者と労働者のあいだで、労働条件の最低基準を定めて、労働者の人権や生活を守ることを目的とした法律。  
④ 複数の国のあいだで関税などの障害を取り除いて行われる貿易。  
⑤ 仕事と家庭生活や個人の時間を両立させ、その両方が充実している状態を目指す取り組みや考え方。

ア ワークシェアリング      イ 保護貿易      ウ PL (製造物責任) 法  
エ 均衡量      オ ワークライフバランス      カ シビリアンコントロール  
キ 労働関係調整法      ク 需要量      ケ 市場価格  
コ クーリングオフ法      サ 労働基準法      シ 供給量  
ス 労働組合法      セ 自由貿易      ソ 消費者契約法







〔解答用紙の記入に関する注意事項〕

①受験番号を記入する際は、算用数字を記入し、対応する枠内を丁寧にぬりつぶしなさい。【悪い例】のような場合は、読み取れないことがあります。









































【良い例】

 濃くはっきりと  
塗りつぶしている

【悪い例】

 輪郭をなぞっただけ       線を引いただけ       チェックを記入しただけ  
 塗りつぶす箇所が小さい       はみ出している       塗りつぶし方が薄い

【記入例】 受験番号が「1324」の場合

受験番号	1										
	3										
	2										
	4										

②解答は解答用紙の枠からはみ出さないように記入しなさい。正しく記入されていない場合は、採点できないことがあります。

③解答を直す際は、消しゴムを使ってきれいに消しなさい。消し忘れや消し方が不十分だと採点できないことがあります。

得点(記入しないこと)	2026年度 初芝橋本高等学校 入学試験	
	氏名	

受験番号	①	②	③	④	⑤	⑥	⑦	⑧	⑨
	①	②	③	④	⑤	⑥	⑦	⑧	⑨
	①	②	③	④	⑤	⑥	⑦	⑧	⑨
	①	②	③	④	⑤	⑥	⑦	⑧	⑨

## 社会科 解答用紙 (A日程)

### 【1】

問1		問2		問3		問4		問5				
問6		問7				問8		問9		問10		
問11		問12		問13								

### 【2】

問1		問2		問3		問4		問5		問6		問7	
----	--	----	--	----	--	----	--	----	--	----	--	----	--

### 【3】

問1		問2		問3		問4		問5					
問6		問7		問8		問9	足利	問10		問11			
問12		問13		問14		問15		問16		問17		問18	
問19						問20							

### 【4】

問1	①		②		③		④		⑤	
問2	①		②		③		④		⑤	

得点(記入しないこと)

2026年度 初芝橋本高等学校 入学試験

氏名

受験番号

①	①	②	③	④	⑤	⑥	⑦	⑧	⑨
①	①	②	③	④	⑤	⑥	⑦	⑧	⑨
①	①	②	③	④	⑤	⑥	⑦	⑧	⑨
①	①	②	③	④	⑤	⑥	⑦	⑧	⑨

社会科 解答用紙 (A日程)

すべて2点

【1】

問1	ア	問2	イ	問3	エ	問4	イ	問5	適	地	作	
問6	ウ	問7	サンベルト				問8	ウ	問9	イ	問10	ウ
問11	イ	問12	エ	問13	ア							

【2】

問1	ウ	問2	ア	問3	エ	問4	イ	問5	イ	問6	ア	問7	ウ
----	---	----	---	----	---	----	---	----	---	----	---	----	---

【3】

問1	小野妹子			問2	エ	問3	イ	問4	菅原道真			問5	ウ
問6	イ	問7	ウ	問8	ウ	問9	足利 義政	問10	イ	問11	ア		
問12	エ	問13	ウ	問14	イ	問15	ウ	問16	ア	問17	エ	問18	エ
問19	犬養毅					問20	イ						

【4】

問1	①	イ	②	エ	③	イ	④	ア	⑤	イ
問2	①	ク	②	ウ	③	サ	④	セ	⑤	オ