

2025年度

社 会 科

初芝橋本高等学校A

〔注 意〕

- ①所持品は椅子の下に整頓^{せいとん}しなさい。(机の中には何も入れてはいけません)
- ②チャイムの鳴り始めが「始め」、「終わり」の合図です。
- ③問題用紙は合図があるまで開いてはいけません。
- ④試験開始後、受験番号・氏名を記入しなさい。
- ⑤問題・解答用紙に不審な点があれば黙って手を挙げなさい。
- ⑥解答が終わっても試験終了時間まで退出できません。
- ⑦試験中、体調不良などで連絡のあるときは黙って手を挙げなさい。
- ⑧冊子の裏側にも注意事項があるので読んでおきなさい。

受験番号	
氏 名	

- 【1】 2025年には、大阪で日本国際博覧会（「大阪・関西万博」）が開かれる。次の資料は、いくつかの国際博覧会の開催年と開催国をまとめたものである。これについて、後の問いに答えなさい。

資料「国際博覧会の開催年と開催国一覧」

開催年	名称	開催国
1851年	ロンドン万国博覧会	イギリス
1873年	ウィーン万国博覧会	オーストリア
1936年	ストックホルム国際博覧会	スウェーデン
1960年	ロッテルダム国際園芸博覧会	オランダ
1970年	日本万国博覧会	日本
1992年	セビリア万国博覧会	スペイン
2000年	ハノーヴァー万国博覧会	ドイツ
2005年	日本国際博覧会	日本
2010年	上海国際博覧会	中国
2015年	ミラノ国際博覧会	イタリア
2021年	ドバイ国際博覧会	アラブ首長国連邦
2025年	日本国際博覧会	日本
2030年	リヤド国際博覧会	サウジアラビア

〔博覧会国際事務局（BIE）HP などにより作成〕

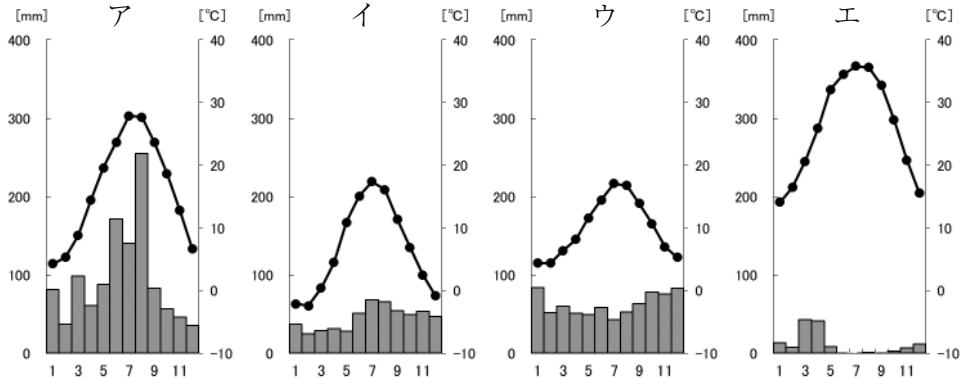
- 問1 世界最初の国際博覧会が開かれたロンドンでは、本初子午線が通過する都市である。ロンドンが5月1日午前10時のとき、日本の日時として適当なものを、次のア～エから1つ選び、記号で答えなさい。

ア 4月30日午前10時 イ 5月1日午前1時
ウ 5月1日午後7時 エ 5月1日午後10時

- 問2 日本が初めて国際博覧会に参加したのは、オーストリアで開かれたウィーン万国博覧会である。オーストリアの国土の約60%を占める山脈として適当なものを、次のア～エから1つ選び、記号で答えなさい。

ア アルプス山脈 イ アンデス山脈 ウ ヒマラヤ山脈 エ ロッキー山脈

問3 次のア～エは、資料中の上海、ストックホルム、リヤド、ロンドンの雨温図を示したものである。ロンドンの雨温図として適当なものを、ア～エから1つ選び、記号で答えなさい。



[気象庁 HP のデータにより作成]

問4 資料中にはEU（ヨーロッパ連合）の加盟国が複数みられる。次の問いに答えなさい。

(1) 多くのEU加盟国では、共通の通貨が使用されている。この共通通貨の名称をカタカナで答えなさい。

(2) EUについて述べた次のア～エの文のうち、誤っているものを1つ選び、記号で答えなさい。

ア 航空機の生産においては、EU加盟国であるフランスやドイツが、EU内での連携を深めるために企業を共同で設立し、国境を越えた技術協力を行っている。

イ EU加盟国間では、貿易品に関税がかからないため、地価や賃金の低い東ヨーロッパなどに工場を移転する企業が増加している。その結果、EU全体で農産物や工業製品が活発に輸出入されている。

ウ 多くのEU加盟国間では国境でのパスポート検査がなく、自由に行き来することができる。そのため、国境を越えて通勤や買い物をしたり、週末に旅行をする人が多い。

エ EUはその前身となるEC（ヨーロッパ共同体）の時代から加盟国数が増え続け、現在に至るまで離脱した国は1つもない。

(3) EU加盟国の中には、かつて多くの国を植民地として支配してきた国もある。イギリスの旧植民地として適当でないものを、次のア～エから1つ選び、記号で答えなさい。

ア インド イ エジプト ウ オーストラリア エ メキシコ

問5 ミラノ国際博覧会が開催されたイタリアなど、地中海沿岸で主に行われている農業について述べた文として適当なものを、次のア～エから1つ選び、記号で答えなさい。

- ア 年中温暖で湿潤な気候であり、サトウキビやコーヒー豆、バナナの栽培がさかんである。
- イ 夏の暑く乾燥する気候に適した、オリーブやトマト、ブドウなどの栽培がさかんである。
- ウ 冷涼な気候でも育つライ麦やじゃがいもの栽培がさかんである。
- エ 樹木などを切りはらい、それを燃やした灰を肥料として利用する焼畑農業が行われている。

問6 ハノーヴァー万国博覧会が開催されたドイツをはじめ、ヨーロッパの国々では環境問題に積極的に取り組んでおり、火力や原子力に代わる再生可能エネルギーの利用も進んでいる。右の表は、ある再生可能エネルギーを利用した発電がさかんな上位5か国を示したものである。この再生可能エネルギーを次のア～エから1つ選び、記号で答えなさい。

2020 年	(万 kW)
中 国	25,383
アメリカ	7,381
日 本	6,700
ドイツ	5,378
インド	3,898

- ア 水力 イ 太陽光 ウ 地熱 エ 風力

【『データブック オブ・ザ・ワールド』により作成】

問7 これまでの国際博覧会で最多の動員数を記録したのが上海国際博覧会である。この博覧会が開催された中国について、次の問いに答えなさい。


- (1) 中国は 2023 年に、ある国に抜かれるまで世界一の人口大国であった。現在、中国に代わり、世界で人口が最も多くなった国はどこか。次のア～エから1つ選び、記号で答えなさい。



- (2) 中国では、1980 年代から改革が進められ、シェンチェンやアモイなどに外国企業を受け入れる（ ）を設けたり、シャanghaiやテンチンなどに外国企業と共同経営する工場を建設したりして、工業化を進めた結果、世界各地に工業製品を輸出する「世界の工場」と呼ばれるようになった。（ ）にあてはまる語句を漢字で答えなさい。

問8 資料中のアラブ首長国連邦とサウジアラビアはともにイスラームを信仰するムスリムが国民の多数を占める国である。同様にイスラームを信仰する人が国民の多数を占める国の組み合わせとして適当でないものを、次のア～エから1つ選び、記号で答えなさい。

- ア インドネシア・バングラデシュ イ イラン・パキスタン
- ウ エジプト・マレーシア エ タイ・ナイジェリア

問9 次の図は、1970年に万国博覧会が開かれた会場付近の地形図である。この地域の住宅地には、の地図記号がいくつかみられる。この地図記号が示すものを、後のア～エから1つ選び、記号で答えなさい。



ア 図書館 イ 美術館 ウ 老人ホーム エ 病院

問10 地形図を発行している国土地理院を所管している省庁はどこか。次のア～エから1つ選び、記号で答えなさい。

ア 国土交通省 イ 文部科学省 ウ 外務省 エ 財務省

【2】 地域活性化と持続可能な社会について、次の問いに答えなさい。

問1 次の表は、青森県、秋田県、高知県、島根県の人口増減率および年齢別人口割合を示したものである。表中の4県では、いずれも地域の人口が著しく減少し、高齢化が進む過疎化が見られる。過疎化が進むことで発生する事象として適当でないものを、後のア～エから1つ選び、記号で答えなさい。

県 名	人口増減率 (2018-2019)	年少人口割合 (0～14歳)	生産年齢人口割合 (15～64歳)	老年人口割合 (65歳以上)
青森県	-1.31	10.7	56.1	33.3
秋田県	-1.48	9.8	53.0	37.2
高知県	-1.15	11.1	53.7	35.2
島根県	-0.84	12.3	53.4	34.3

[単位は％ 年齢別人口割合の統計年次は2019年。『データでみる県勢』により作成]

- ア 年少人口の割合が相対的に小さくなり、学校の統廃合が行われる。
- イ 利用者の減少により、電車やバスなど公共交通機関の便数が削減されたり、廃止されたりする。
- ウ 人口減少に伴い、商店が閉鎖されたり、医療機関の統合が行われたりする。
- エ 農業従事者の高齢化が進み、森林や水田の維持・管理が適切に進むようになる。

問2 問1の表より、島根県は満65歳以上の老年人口割合が高いにも関わらず、人口減少率は低くなっている。その背景について説明した次のa～cの正誤を判断し、その組み合わせとして適当なものを、後のア～クから1つ選び、記号で答えなさい。

- a UターンやIターンなど、県外からの移住者や、県外で学業や仕事を終えた人々が戻りやすい政策をとっている。
- b 特産品である「出雲そば」を活用し、生産から加工、販売までを地域で行う六次産業化が進み、都市部に比べて食費や住居費などの生活コストが非常に高く、住みやすい環境が整っている。
- c 自然環境や治安の良さという従来からの魅力に加え、子育て支援策を強化することで、若年層の定住促進を図っている。

	ア	イ	ウ	エ	オ	カ	キ	ク
a	正	正	正	正	誤	誤	誤	誤
b	正	正	誤	誤	正	正	誤	誤
c	正	誤	正	誤	正	誤	正	誤

問3 地域の活性化を図るためには、観光資源の活用も重要なテーマである。その中でも人類全体の遺産として保護・保存していくために、日本でも世界遺産に登録されている観光資源が存在する。世界遺産として登録されたものとその位置する都道府県との組み合わせとして適当でないものを、次のア～エから1つ選び、記号で答えなさい。

- ア 屋久島－鹿児島県 イ 日光東照宮－宮城県
ウ 石見銀山－島根県 エ 大仙古墳－大阪府

問4 持続可能な社会の構築とエネルギー問題は密接に関係しているが、日本はその多くを世界各地からの輸入に依存している。次の表は、日本の原油・石炭・液化天然ガスの輸入相手国上位5か国とその割合を示したものである。石炭に該当するものを、表中のア～ウから1つ選び、記号で答えなさい。

ア	%	イ	%	ウ	%
オーストラリア	38.9	サウジアラビア	35.8	オーストラリア	58.7
マレーシア	12.1	アラブ首長国連邦	29.7	インドネシア	15.1
カタール	11.3	カタール	8.8	ロシア	10.8
ロシア	8.3	クウェート	8.5	アメリカ	7.1
ブルネイ	5.6	ロシア	5.4	カナダ	5.5

〔統計年次は2019年。『日本国勢図会』により作成〕

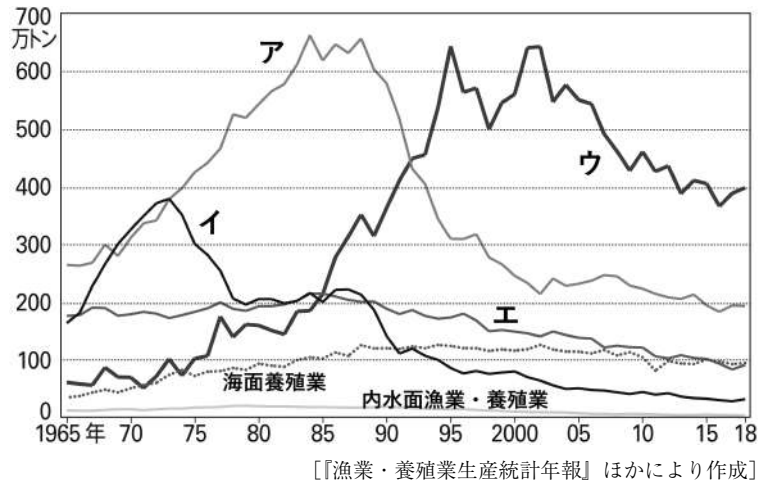
問5 持続可能な物流の実現に向けて、2024年4月からトラックドライバーの時間外労働の上限規制などが実施されている。次の表は、国内の貨物輸送と旅客輸送について、航空、自動車、船舶（内航海運）、鉄道ごとにその輸送量を示したものである。表中のア～エから自動車に該当するものを1つ選び、記号で答えなさい。

	貨物輸送（百万トン）	旅客輸送（百万人）
ア	1	102
イ	45	24,973
ウ	360	88
エ	4,509	69,402

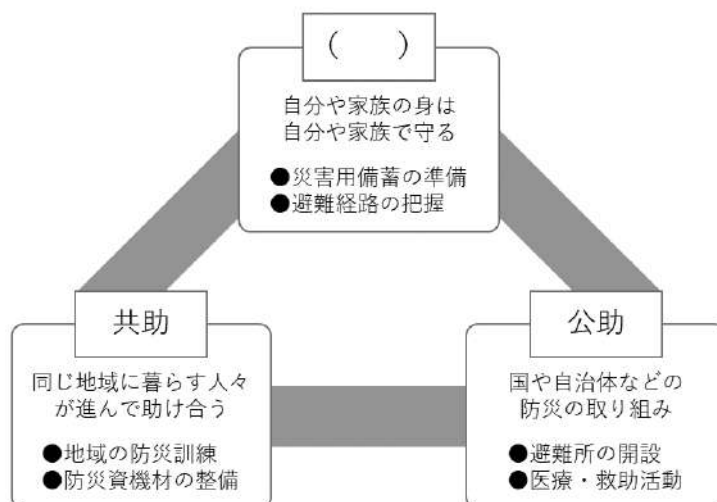
〔統計年次は2017年。『日本国勢図会』により作成〕

問6 日本は四方を海に囲まれ、豊かな水産資源に恵まれている。しかし、近年では乱獲や環境変化によって多くの魚種が減少しており、持続可能な資源管理が重要視されている。次の図は日本の漁獲別漁獲量と魚介類輸入量*の推移を示したものであり、図中のア～エは沿岸漁業・遠洋漁業・沖合漁業・魚介類の輸入量のいずれかを表している。遠洋漁業に該当するものを、図中のア～エから1つ選び、記号で答えなさい。

* 輸入魚介類のうち加工食品は生鮮換算して計上。



問7 持続可能な社会を築くためには、災害時にも迅速で公平な支援が行えるようにすることが必要であり、自然災害から身を守り、その被害を軽減するための備えも欠かせない。災害の被害を軽減するための取り組みについてまとめた次の図の（ ）にあてはまる語句を、漢字で答えなさい。



【3】 I～IVの表を見て、それぞれの問いに答えなさい。

I

縄文時代	縄文文化 ・ (1) の使用 ・ たて穴住居
弥生時代	王の登場 ・ 小国の分立 ・ a <u>邪馬台国</u>
古墳時代	ヤマト王権の成立 古墳文化 ・ 埴輪 ・ b <u>大陸文化の伝来</u> 仏教伝来
飛鳥時代	遣 (2) 使派遣 遣唐使派遣
(3) 時代	平城京 ・ 聖武天皇
c <u>平安時代</u>	平安京 摂関政治 ・ 藤原氏 国風文化

問1 (1) にあてはまる道具の説明について正しいものを、次のア～エから1つ選び、記号で答えなさい。

- ア 厚手の低温で焼かれた黒褐色の土器
- イ 武器や工具、農具に用いられた鉄器
- ウ 薄手のやや高温で焼かれた赤褐色の土器
- エ 家形、馬形などさまざまな形をした埴輪

問2 下線部 a について、この邪馬台国のようすを説明した文として誤っているものを、次のア～エから1つ選び、記号で答えなさい。

- ア 卑弥呼が女王となり、倭の 30 ほどの国々をまとめていた。
- イ 魏に朝貢して、皇帝から「漢委奴国王」という称号と金印が授けられた。
- ウ 邪馬台国のあった場所については、近畿説と九州説がある。
- エ 邪馬台国については、中国の歴史書『三国志』の「魏志」倭人伝に記述がある。

問3 (2) にあてはまる中国の王朝名を漢字で答えなさい。

問4 下線部 b について、この時に伝わってきたものとして誤っているものを、次のア～エから1つ選び、記号で答えなさい。

- ア 漢字
- イ 須恵器
- ウ 儒教
- エ 茶

問5 (3) 時代について関係のある人物①・②と、その人物を説明した下の文 A・B との組み合わせとして正しいものを、後のア～エから1つ選び、記号で答えなさい。

- ① 鑑真
- ② 行基

- A 一般の人々に布教して歩き、人々とともに橋やため池を作った。
- B 宋の技術や知識をとり入れながら大仏殿や南大門などを再建し、東大寺再興に尽力した。

- ア ①・A
- イ ①・B
- ウ ②・A
- エ ②・B

問6 下線部 c について、平安時代の出来事に関して述べた次の文Ⅰ～Ⅲについて、古いものから年代順に配列したものを、後のア～エから1つ選び、記号で答えなさい。

- Ⅰ 蝦夷の抵抗を制圧するため、坂上田村麻呂を征夷大將軍に任命した。
 Ⅱ 平清盛は武士として初めて太政大臣になった。
 Ⅲ 藤原氏は、藤原道長とその子頼通のころに最も栄えた。

ア Ⅰ→Ⅱ→Ⅲ イ Ⅰ→Ⅲ→Ⅱ ウ Ⅲ→Ⅱ→Ⅰ エ Ⅲ→Ⅰ→Ⅱ

Ⅱ

室町時代	
戦国時代	<div>A</div> <p>(4) の来航</p> <div>B</div> <p>鉄砲の伝来</p> <div>C</div> <p>織田信長が安土城築城</p> <div>D</div>
(5) 時代	<p>豊臣秀吉の全国統一</p>
江戸時代	<p>(6) が幕府を開く</p> <p>徳川家光</p> <ul style="list-style-type: none"> ・参勤交代 ・ d 島原・天草一揆

問7 (4) にあてはまる、この当時日本にやって来たポルトガル人やスペイン人のことを何と呼んだか。漢字3字で答えなさい。

問8 ポルトガル人やスペイン人は、貿易や布教のために日本にやって来たが、キリスト教が伝わったのは表中の A ～ D のどこにあてはまるか。次のア～エから1つ選び、記号で答えなさい。

ア A イ B ウ C エ D

問9 (5) 時代の文化について説明した文として誤っているものを、次のア～エから1つ選び、記号で答えなさい。

- ア 田楽や猿楽は、観阿弥と世阿弥によって能として大成された。
 イ 狩野永徳などの画家によって、金銀やあざやかな色を使ったきらびやかな絵がえがかれた。
 ウ 千利休が質素と静かさを重んじるわび茶を完成させた。
 エ 出雲阿国という女性が始めたかぶきおどりが、京都で人気を集めた。

問10 (6) にあてはまる人物を漢字で答えなさい。

問11 下線部 d について、この一揆のあとに決められたことを、次のア～エから1つ選び、記号で答えなさい。

- ア 貿易を望む大名や豪商に、海外渡航を許可する朱印状が発行された。
 イ ポルトガル船の来航が禁止された。
 ウ 全国でキリスト教が禁止された。
 エ 日本人の海外渡航と帰国が禁止された。

Ⅲ

江戸時代	<p>ペリー来航</p> <ul style="list-style-type: none"> ・ e 日米和親条約 ・ 日米修好通商条約 <p>f <u>薩長同盟</u></p> <p>(7)</p>
明治時代	g <u>五箇条の御誓文</u>

問 12 下線部 e について、この条約の内容を説明した文として正しいものを、次のア～エから 1 つ選び、記号で答えなさい。

- ア 日本に関税自主権がなかった。
- イ アメリカに領事裁判権を認めた。
- ウ 函館・神奈川（横浜）・長崎・新潟・兵庫（神戸）の 5 港が開かれた。
- エ アメリカ船に食料や水、石炭などを供給することを認めた。

問 13 下線部 f について、この同盟に関係のある藩①・②と、その藩の人物 A・B との組み合わせとして正しいものを、後のア～エから 1 つ選び、記号で答えなさい。

- ① 薩摩藩
- ② 長州藩
- A 坂本龍馬
- B 木戸孝允

ア ①・A イ ①・B ウ ②・A エ ②・B

問 14 (7) には、政権を朝廷に返上したことをあらわす語句があてはまる。漢字 4 字で答えなさい。

問 15 下線部 g について、この新政府の政治方針が出されたあとの出来事に関して述べた次の文 I～Ⅲについて、古いものから年代順に配列したものを、後のア～エから 1 つ選び、記号で答えなさい。

- I 藩を廃止して県を置き、各県には県令を、東京・大阪・京都の 3 都には府知事を派遣した。
- Ⅱ 西南戦争が、政府軍によって鎮圧された。
- Ⅲ 政府は、藩主に土地（版）と人民（籍）を朝廷に返させた。

ア I→Ⅱ→Ⅲ イ I→Ⅲ→Ⅱ ウ Ⅲ→Ⅱ→I エ Ⅲ→I→Ⅱ

IV

明治時代	<p>h <u>自由民権運動</u></p> <p>条約改正</p> <p>(8) 条約</p> <p>日露戦争</p>
大正時代	<p>i <u>第一次世界大戦</u></p> <p>普通選挙法</p> <p>(9)</p>
昭和時代	<p>満州事変</p> <p>E</p> <p>太平洋戦争</p>

問 16 下線部 h について、これに関わる文Ⅰ～Ⅲについて、古いものから年代順に配列したものを、後のア～エから 1 つ選び、記号で答えなさい。

- Ⅰ 国会開設の勅諭が出された。
 Ⅱ 内閣制度ができた。
 Ⅲ 大隈重信たちは立憲改進黨を結成した。

ア Ⅰ→Ⅱ→Ⅲ イ Ⅰ→Ⅲ→Ⅱ
 ウ Ⅲ→Ⅱ→Ⅰ エ Ⅲ→Ⅰ→Ⅱ

問 17 (8) 条約は日清戦争のあとの講和会議で結ばれたものである。この条約について説明した文として誤っているものを、次のア～エから 1 つ選び、記号で答えなさい。

- ア 清は、朝鮮が独立国であることを認める。
 イ 清は、賠償金 2 億 ^{テール}兩を支払う。
 ウ 清は、北緯 50 度以南の樺太（サハリン）を日本にゆずる。
 エ 清は、遼東半島および台湾・澎湖諸島を日本にゆずる。

問 18 下線部 i について、ヨーロッパ列強諸国は、20 世紀になると三国協商と三国同盟の二大陣営に分かれて対立していた。このうち三国協商を結んでいた国の組み合わせとして正しいものを、次のア～エから 1 つ選び、記号で答えなさい。

- ア イギリス・フランス・アメリカ
 イ イギリス・フランス・ロシア
 ウ ドイツ・オーストリア・イタリア
 エ ドイツ・イギリス・フランス

問 19 (9) には、普通選挙法と同年に制定された、共産主義（のちに対象が社会主義全体へと拡大）などを取りしめる法律があてはまる。漢字で答えなさい。

問 20 E の期間にあてはまる出来事を、次のア～エから 1 つ選び、記号で答えなさい。

- ア レーニンの指導で、ソビエトに権力基盤をおく新しい政府がつけられたロシア革命が起こった。
 イ 米の安売りを求める民衆が、米屋などをおそう米騒動が起こり、全国に広がった。
 ウ 北京での学生集会をきっかけに反日運動が起こり、帝国主義に反対する五・四運動が起こった。
 エ 陸軍の青年将校が大臣などを殺傷する二・二六事件が起こり、東京の中心部が占拠された。

【4】 次の表を見て、後の問いに答えなさい。

大日本帝国憲法		日本国憲法
1889年2月11日発布	発布・公布	(1) 公布
欽定憲法	性格	民定憲法
(2)	主権	
兵役 納税 (教育)	国民の義務	普通教育を受けさせる義務 勤労 納税
	議会・国会	(3)
	内閣	(4)
天皇の名において裁判を行う	裁判所	司法権の独立を保障
天皇に統帥権 徴兵制	軍隊	もたない (平和主義)

問1 (1) にあてはまる年月日を、次のア～エから1つ選び、記号で答えなさい。

- ア 1945年8月15日 イ 1946年11月3日
ウ 1947年2月3日 エ 1947年5月3日

問2 (2) にあてはまる語句①・②と、天皇の地位・立場についての説明A・Bとの組み合わせとして正しいものを、後のア～エから1つ選び、記号で答えなさい。

- ① 天皇主権
② 国民主権
A 日本国と日本国民統合の象徴
B 神聖不可侵、統治権をもつ元首

- ア ①・A イ ①・B ウ ②・A エ ②・B

問3 (3) にあてはまる内容として誤っているものを、次のア～エから1つ選び、記号で答えなさい。

- ア 貴族院と衆議院の二院制
イ 全国民を代表する選挙された議員でこれを組織する
ウ 唯一の立法機関
エ 国権の最高機関

問4 (4) にあてはまる内容として誤っているものを、次のア～エから1つ選び、記号で答えなさい。

- ア 天皇の国事行為への助言と承認
- イ 条約の締結
- ウ 最高裁判所長官の指名
- エ 弾劾裁判所の設置

問5 下線部について、平和主義の内容として誤っているものを、次のア～エから1つ選び、記号で答えなさい。

- ア 戦争や武力の行使などを、国際紛争を解決する手段として永久に放棄する。
- イ 政府は自衛隊だけは例外的に、憲法の禁止する「戦力」とみなしている。
- ウ 平和を愛する世界の人々と協調しながら「われらの安全と生存を保持」と宣言。
- エ 戦力の不保持と交戦権の否認。

問6 2024年10月におこなわれた衆議院議員選挙の際には、最高裁判所裁判官がその職責にふさわしいかどうかを国民が審査する国民審査が行われた。次の(1)～(5)の文は日本の司法制度について述べた文である。それぞれの文の下線部の内容について、その正誤を判断し、内容が正しければ「T」、誤っていれば「F」をそれぞれ答えなさい。

- (1) 司法制度改革の一環として2009年に導入された裁判員制度では、裁判員は有罪か無罪かの判定のみを行い、その量刑については関与しない。
- (2) 国会の定める法律の内容が、憲法に適合するかしないかを審査する権限を違憲立法審査権といい、最高裁判所はその最終決定権を持つことから「憲法の番人」と呼ばれる。
- (3) 日本では同一の事件について三審制が認められており、一審の判決に不服があれば上告し、二審の判決に不服があれば控訴することができる。
- (4) 裁判所には、最高裁判所と高等裁判所・地方裁判所・家庭裁判所・簡易裁判所の4種類の下級裁判所がある。
- (5) 一部の刑事裁判において、犯罪の被害者や遺族の声を裁判に反映させる被害者参加制度によって、被告人に直接質問したり、刑罰の重さについて意見を述べたりすることができる。

得点(記入しないこと)

2025 年度 初芝橋本高等学校 入学試験

氏
名

受験
番号

⑩	①	②	③	④	⑤	⑥	⑦	⑧	⑨
⑪	①	②	③	④	⑤	⑥	⑦	⑧	⑨
⑫	①	②	③	④	⑤	⑥	⑦	⑧	⑨
⑬	①	②	③	④	⑤	⑥	⑦	⑧	⑨

社会科 解答用紙 (A日程)

【1】

問 1		問 2		問 3		問 4	(1)		(2)
問 4	(3)		問 5		問 6		問 7	(1)	(2)
問 8		問 9		問 10					

【2】

問 1		問 2		問 3		問 4		問 5		問 6	
問 7											

【3】

問 1		問 2		問 3		問 4		問 5		問 6	
問 7			問 8		問 9		問 10			問 11	
問 12		問 13		問 14			問 15		問 16		
問 17		問 18		問 19			問 20				

【4】

問 1		問 2		問 3		問 4		問 5	
問 6	(1)	(2)	(3)	(4)	(5)				

得点 (記入しないこと)	2025 年度 初芝橋本高等学校 入学試験	
	氏名	

受験番号		①	①	②	③	④	⑤	⑥	⑦	⑧	⑨
		⑩	①	②	③	④	⑤	⑥	⑦	⑧	⑨
		⑩	①	②	③	④	⑤	⑥	⑦	⑧	⑨
		⑩	①	②	③	④	⑤	⑥	⑦	⑧	⑨

社会科 解答用紙 (A日程)

【1】 すべて2点

問1	ウ	問2	ア	問3	ウ	問4	(1)	ユーロ	(2)	エ	
問4	(3)	エ	問5	イ	問6	イ	問7	(1)	イ	(2)	経済特区
問8	エ	問9	ウ	問10	ア						

【2】 すべて2点

問1	エ	問2	ウ	問3	イ	問4	ウ	問5	エ	問6	イ
問7	自助										

【3】 すべて2点

問1	ア	問2	イ	問3	隋	問4	エ	問5	ウ	問6	イ	
問7	南	蛮	人	問8	ウ	問9	ア	問10	徳川家康	問11	イ	
問12	エ	問13	エ	問14	大	政	奉	還	問15	エ	問16	イ
問17	ウ	問18	イ	問19	治安維持法				問20	エ		

【4】 すべて2点

問1	イ	問2	イ	問3	ア	問4	エ	問5	イ	
問6	(1)	F	(2)	T	(3)	F	(4)	T	(5)	T